

	www.exammix.com
Exam Date	16/11/2021
Exam Time :	12:30 PM - 2:00 PM
Subject	Constable GD 2021

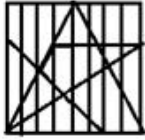
Section : Part A General Intelligence and Reasoning

Q.1 उस विकल्प का चयन कीजिए जिसमें दी गई आकृति सन्निहित है। (आकृति को घुमाने की अनुमति नहीं है)



Ans

✓ 1.



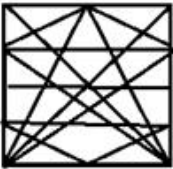
✗ 2.



✗ 3.



✗ 4.



Question ID : 65497829491

Status : Answered

Chosen Option : 1

Q.2 यदि किसी वर्ग का विकर्ण 4 cm बढ़ाया जाता है, तो इसका क्षेत्रफल  $56 \text{ cm}^2$  बढ़ जाता है। नये वर्ग के क्षेत्रफल और आरंभिक वर्ग के क्षेत्रफल का अनुपात ज्ञात कीजिए।

Ans ✗ 1. 18 : 11

✗ 2. 12 : 5

✓ 3. 16 : 9

✗ 4. 13 : 8

Question ID : 65497829485

Status : Answered

Chosen Option : 3

Q.3 उस विकल्प का चयन कीजिए, जिसका तीसरे पद से वही संबंध है, जो दूसरे पद का पहले पद से है।

ZYGOTE : ZYTOGE :: SEQUENCE : ?

- Ans
- 1. SUQNEEEC
  - 2. USNQEEEC
  - 3. USQENCEE
  - 4. USQNEEEC

Question ID : 65497829504

Status : Answered

Chosen Option : 3

Q.4 दिए गए विकल्पों में से उस आकृति का चयन करें जो नीचे दी गई श्रृंखला में प्रश्न चिह्न (?) के स्थान पर आ सकती है।



Ans

- 1.
- 2.
- 3.
- 4.

Question ID : 65497829495

Status : Answered

Chosen Option : 1

Q.5 दिए गए विकल्पों में से उस अक्षर-समूह का चयन करें, जो निम्नलिखित श्रृंखला में प्रश्नवाचक चिह्न (?) के स्थान पर आ सकता है।

IOM, NTR, SYW, ?

- Ans
- 1. XDB
  - 2. NSX
  - 3. OTZ
  - 4. JPN

Question ID : 65497829496

Status : Answered

Chosen Option : 1

Q.6 O, P, Q, R, S, T और U एक पंक्ति में उत्तर की ओर मुँह करके बैठे हुए हैं। U, T के दाईं ओर बगल में बैठा है। Q, R और O के बीच बैठा है। P, जो दाएं छोर पर है, O के दाएं बगल में बैठा है। S, R के बाईं ओर बगल में बैठा है। पंक्ति के बीच में कौन बैठा है?

- Ans
- 1. T
  - 2. S
  - 3. Q
  - 4. R

Question ID : 65497829498  
Status : Answered  
Chosen Option : 4

Q.7 अक्षरों के उस संयोजन का चयन करें जो दी गई श्रृंखला के रिक्त स्थान में क्रमिक रूप से रखे जाने पर श्रृंखला को पूर्ण करेगा।

A \_ \_ B \_ \_ A B \_ C A \_ B B C

- Ans
- 1. B, A, B, A, C, B
  - 2. B, B, C, C, A, B
  - 3. B, C, A, A, A, B
  - 4. A, B, C, A, B, A

Question ID : 65497829493  
Status : Answered  
Chosen Option : 4

Q.8 दिए गए संयोजन के सही दर्पण प्रतिबिंब का चयन करें जब दर्पण को निम्नांकित चित्रानुसार 'PQ' पर रखा गया है।

MERCHANT  $\begin{matrix} P \\ | \\ Q \end{matrix}$

- Ans
- 1. MEBCHANI
  - 2. TИOHAЯEM
  - 3. TИAHЯEM
  - 4. MEBCHNI

Question ID : 65497829503  
Status : Answered  
Chosen Option : 3

Q.9 दिए गए विकल्पों में से उस संख्या का चयन करें, जो निम्नलिखित श्रृंखला में प्रश्नवाचक चिह्न (?) के स्थान पर आ सकती है।

5, 9, 18, 34, ?, 95

- Ans
- 1. 65
  - 2. 59
  - 3. 69
  - 4. 63

Question ID : 65497829502  
Status : Answered  
Chosen Option : 3

Q.10 एक निश्चित कूट भाषा में GAME को TUZANOVW लिखा जाता है और CAR को XYZAIJ लिखा जाता है। उसी कूट भाषा में POST को किस प्रकार लिखा जाएगा?

- Ans
- 1. QRPQTUUV
  - 2. OQNPRTSV
  - 3. KLLMHIGH
  - 4. KLMNJKGH

Question ID : 65497829505  
Status : Answered  
Chosen Option : 3

Q.11 दिए गए कथनों और निष्कर्षों को ध्यान से पढ़ें। यह मानते हुए कि कथनों में दी गई जानकारी सत्य है, भले ही यह सामान्य रूप से ज्ञात तथ्यों से भिन्न प्रतीत होती हो, यह निर्णय लें कि दिए गए निष्कर्षों में से कौन सा / कौन से निष्कर्ष कथनों का तार्किक रूप से अनुसरण करता है / करते हैं।

कथन:  
कुछ बिल्लियाँ पशु हैं।  
सभी पशु पौधे हैं।

निष्कर्ष:  
I. सभी बिल्लियाँ पौधे हैं।  
II. कुछ पौधे बिल्लियाँ हैं।  
III. कुछ पौधे पशु हैं।  
IV. सभी पशु बिल्लियाँ हैं।

- Ans
- 1. केवल निष्कर्ष I, II और III अनुसरण करते हैं।
  - 2. केवल निष्कर्ष II और III अनुसरण करते हैं।
  - 3. केवल निष्कर्ष I अनुसरण करता है।
  - 4. सभी निष्कर्ष अनुसरण करते हैं।

Question ID : 65497829483  
Status : Answered  
Chosen Option : 2

Q.12 एक निश्चित कूट भाषा में, 'MANGO' को 'QERKS' के रूप में लिखा जाता है और 'APPLE' को 'ETTP' के रूप में लिखा जाता है। उसी भाषा में 'GUAVA' को किस रूप में लिखा जाएगा?

- Ans
- 1. KYEZE
  - 2. KYGZE
  - 3. KYFXF
  - 4. KXEZE

Question ID : 65497829482  
Status : Answered  
Chosen Option : 1

Q.13 उस विकल्प का चयन कीजिए जो तीसरी संख्या से उसी प्रकार संबंधित है जिस प्रकार दूसरी संख्या पहली संख्या से संबंधित है।

20 : 480 :: 25 : ?

- Ans
- 1. 725
  - 2. 655
  - 3. 625
  - 4. 700

Question ID : 65497829488  
Status : Answered  
Chosen Option : 1

Q.14 एक विशिष्ट कूट भाषा में, 'PHENYL' का कोड '9-11-17-8-5-13' और 'COLONY' का कोड '6-12-13-12-8-5' है। इसी कूट भाषा में 'COLONEL' का कोड क्या होगा?

- Ans  1. 6-12-13-12-8-17-13  
 2. 6-17-12-13-8-13-11  
 3. 6-12-12-13-8-11-13  
 4. 6-12-12-13-8-17-13

Question ID : 65497829501  
Status : Answered  
Chosen Option : 1

Q.15 विकल्पों में चार संख्या-त्रिक दिए गए हैं, जिनमें से तीन किसी तरह से संगत हैं और कोई एक असंगत है। असंगत संख्या त्रिक का चयन कीजिए।

- Ans  1. (54, 73, 90)  
 2. (21, 40, 57)  
 3. (39, 48, 75)  
 4. (46, 65, 82)

Question ID : 65497829484  
Status : Answered  
Chosen Option : 1

Q.16 निम्नलिखित चार अक्षर-समूहों में से तीन किसी न किसी प्रकार से संगत हैं और कोई एक असंगत है। उस अक्षर-समूह का चयन करें, जो अन्य से असंगत है।

- Ans  1. FDB  
 2. USP  
 3. OMK  
 4. JHF

Question ID : 65497829500  
Status : Answered  
Chosen Option : 2

Q.17 अदिति, संकेत की पुत्री है। वृत्ति, अंकित की पुत्री है। कृति, माही की मां है। नीता, संकेत की पत्नी है। नीता, वृत्ति की मां कृति की सास है। निम्नलिखित में से कौन सा कथन सही नहीं है?

- Ans  1. वृत्ति, माही की बहन है।  
 2. अदिति, नीता की पुत्री है।  
 3. कृति, संकेत की पुत्री है।  
 4. अंकित, माही का पिता है।

Question ID : 65497829506  
Status : Answered  
Chosen Option : 4

Q.18 छः मित्र एक सीधी पंक्ति में बैठे हुए हैं। E दाएं सिरे से चौथे स्थान पर बैठा है। E, B और D के बीच में बैठा है। A, B के बगल में बैठा है। D, C के बगल में बैठा है। D, E और C के बीच में बैठा है। F, C के बगल में बैठा है। F और D के बीच में कौन बैठा है?

- Ans  1. E  
 2. B  
 3. A  
 4. C

Question ID : 65497829487  
Status : Answered  
Chosen Option : 4

Q.19 जिस प्रकार 'प्रयोगकर्ता', 'प्रयोगशाला' से संबंधित है, उसी प्रकार 'बावर्ची', '\_\_\_\_\_' से संबंधित है।

- Ans
- 1. भोजन
  - 2. व्यंजन
  - 3. रसोई
  - 4. खाना बनाना

Question ID : 65497829497

Status : Answered

Chosen Option : 3

Q.20 यदि 'A' का अर्थ 'जोड़' है, 'B' का अर्थ 'गुणा' है, 'C' का अर्थ 'घटाना' है, और 'D' का अर्थ 'भाग' है, तो निम्न व्यंजक का मान कितना होगा?

100 D (1 B 4) A 2 B (13 A 11) C 3 B (17 C 12)

- Ans
- 1. 60
  - 2. 52
  - 3. 49
  - 4. 58

Question ID : 65497829489

Status : Answered

Chosen Option : 4

Q.21 उस विकल्प का चयन कीजिए जिसमें नीचे दिए गए शब्दों के अंग्रेजी शब्दकोश का अनुक्रम दिया गया है।

1. Dermatitis
2. Desistance
3. Derogation
4. Descendant
5. Dereliction

- Ans
- 1. 5, 1, 3, 4, 2
  - 2. 5, 2, 1, 3, 4
  - 3. 5, 4, 1, 3, 2
  - 4. 5, 1, 3, 2, 4

Question ID : 65497829492

Status : Answered

Chosen Option : 1

Q.22 दिए गए विकल्पों में से उस संख्या का चयन करें जो निम्नलिखित श्रृंखला में प्रश्न चिह्न (?) के स्थान पर आ सकती है।

153, 149, 143, 135, ?

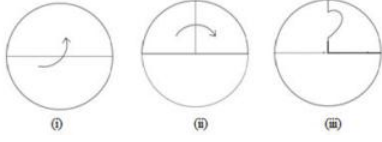
- Ans
- 1. 125
  - 2. 131
  - 3. 129
  - 4. 127

Question ID : 65497829494

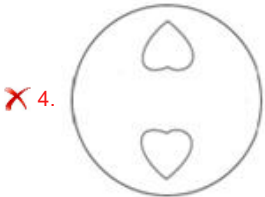
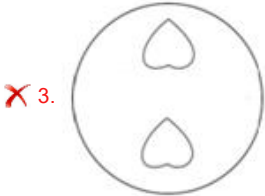

Status : Answered

Chosen Option : 1

Q.23 नीचे दी गई आकृतियों में कागज़ के एक टुकड़े को मोड़ने और मोड़े गए कागज़ को काटने के तरीके का क्रम दर्शाया गया है। कागज़ को खोले जाने पर वह कैसा दिखाई देगा?



Ans



Question ID : 65497829486

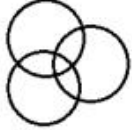
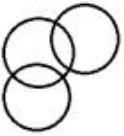
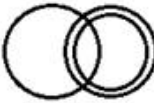

Status : Answered

Chosen Option : 1

Q.24 उस वेन आरेख का चयन करें, जो निम्नलिखित वर्गों के बीच के संबंध को सबसे अच्छे तरीके से दर्शाता है।

विद्यालय, शिक्षक, कर्मचारी

Ans

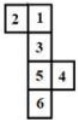
- ✓ 1. 
- ✗ 2. 
- ✗ 3. 
- ✗ 4. 

Question ID : 65497829499

Status : Answered

Chosen Option : 3

Q.25 उस पासे / उन पासों का चयन कीजिए जिसे / जिन्हें दी गई शीट को रेखाओं पर मोड़कर बनाया जा सकता है।



Ans

- ✗ 1. केवल B और D
- ✓ 2. केवल B, C और D
- ✗ 3. केवल A और C
- ✗ 4. केवल B

Question ID : 65497829490

Status : Answered

Chosen Option : 4

Section : Part B General Knowledge and General Awareness

Q.1 त्वेसा मलिक एक भारतीय \_\_\_\_\_ खिलाड़ी हैं।

Ans

- ✗ 1. शतरंज
- ✗ 2. वॉलीबॉल
- ✓ 3. गोल्फ
- ✗ 4. बास्केटबॉल

Question ID : 65497829524

Status : Answered

Chosen Option : 1



Q.2 निम्न में से कौन-सी अधातु बहु-परमाण्विक (poly-atomic) है?

- Ans
- 1. आर्गन
  - 2. हीलियम
  - 3. सल्फर
  - 4. ऑक्सीजन

Question ID : 65497829525  
Status : Answered  
Chosen Option : 2

Q.3 जुलाई 2019 में, विंगसूट स्काईडाइव जम्प करने वाले/वाली प्रथम भारतीय वायु सेना पायलट का नाम क्या है?

- Ans
- 1. रेचेल थॉमस
  - 2. तरुण चौधरी
  - 3. शीतल महाजन राणे
  - 4. अर्चना सरदाना

Question ID : 65497829518  
Status : Answered  
Chosen Option : 4

Q.4 \_\_\_\_\_ ने अगस्त 2021 में मेजर ध्यानचंद नेशनल स्टेडियम, नई दिल्ली में आयोजित एक कार्यक्रम में फिट इंडिया मोबाइल ऐप लॉन्च किया।

- Ans
- 1. उषा शर्मा
  - 2. निसिथ प्रमाणिक
  - 3. अनुराग सिंह ठाकुर
  - 4. रवि मित्तल

Question ID : 65497829530  
Status : Answered  
Chosen Option : 3

Q.5 भारत सरकार द्वारा पेंशनभोगियों के लिए शुरू की गई एक बायोमेट्रिक सक्षम डिजिटल सेवा निम्नलिखित में से कौन सी है?

- Ans
- 1. जीवन प्रमाण
  - 2. प्रधानमंत्री मुद्रा योजना
  - 3. प्रधानमंत्री जन धन योजना
  - 4. प्रधानमंत्री जीवन ज्योति बीमा योजना

Question ID : 65497829509  
Status : Answered  
Chosen Option : 1

Q.6 निम्नलिखित में से कौन सा विकल्प मौर्य साम्राज्य के शासकों के सही कालानुक्रमिक क्रम को दर्शाता है?

- Ans
- 1. अशोक - बृहद्रथ - चंद्रगुप्त - बिंदुसार
  - 2. बृहद्रथ - चंद्रगुप्त - बिंदुसार - अशोक
  - 3. बिंदुसार - चंद्रगुप्त - अशोक - बृहद्रथ
  - 4. चंद्रगुप्त - बिंदुसार - अशोक - बृहद्रथ

Question ID : 65497829528  
Status : Answered  
Chosen Option : 4

Q.7 उत्तर प्रदेश की कैबिनेट ने \_\_\_\_\_ के एक प्राणी उद्यान का नाम स्वतंत्रता सेनानी और क्रांतिकारी अशफाकउल्ला खान के नाम पर रखने के प्रस्ताव को मंजूरी दी है।

- Ans
- 1. फैजाबाद
  - 2. गोरखपुर
  - 3. गाज़ियाबाद
  - 4. शाहजहांपुर

Question ID : 65497829517  
Status : Answered  
Chosen Option : 4

Q.8 भारत सरकार ने वर्ष \_\_\_\_\_ में आयुष्मान भारत प्रधान मंत्री जन आरोग्य योजना (AB-PM-JAY) को मंजूरी दी।

- Ans
- 1. 2018
  - 2. 2014
  - 3. 2015
  - 4. 2019

Question ID : 65497829531  
Status : Answered  
Chosen Option : 4

Q.9 'कोर्ट्स ऑफ़ इंडिया: पास्ट टू प्रेजेंट' नामक पुस्तक के लेखक कौन हैं?

- Ans
- 1. जयंत कलिता
  - 2. शशि थरूर
  - 3. सत्यार्थ नायक
  - 4. रंजन गोगोई

Question ID : 65497829515  
Status : Answered  
Chosen Option : 4

Q.10 30 अक्टूबर, 2020 को जम्मू और कश्मीर के राज्य चुनाव आयुक्त के रूप में किसे नियुक्त किया गया था?

- Ans
- 1. मनोज कुमार
  - 2. शत्रुंजय कुमार सिंह
  - 3. वी भास्करन
  - 4. केवल कुमार शर्मा

Question ID : 65497829520  
Status : Answered  
Chosen Option : 1

Q.11 भारतीय जीवन बीमा निगम अधिनियम, संसद द्वारा \_\_\_\_\_ में पारित किया गया था।

- Ans
- 1. 1965
  - 2. 1948
  - 3. 1971
  - 4. 1956

Question ID : 65497829529  
Status : Answered  
Chosen Option : 4

Q.12 भारतीय संविधान के 44वें संशोधन अधिनियम, 1978 के तहत निम्नलिखित में से कौन सा एक मौलिक अधिकार नहीं है?

- Ans
- 1. धर्म का अधिकार
  - 2. समानता का अधिकार
  - 3. शोषण के खिलाफ अधिकार
  - 4. संपत्ति का अधिकार

Question ID : 65497829519  
Status : Answered  
Chosen Option : 4

Q.13 महानदी नदी के बारे में निम्नलिखित में से कौन सा कथन गलत है?

- Ans
- 1. यह छत्तीसगढ़ के पहाड़ी इलाकों से निकलती है।
  - 2. इसके जलग्रहण क्षेत्र का कुछ हिस्सा महाराष्ट्र में स्थित है।
  - 3. यह अरब सागर में गिरती है।
  - 4. यह लगभग 860 km लंबी है।

Question ID : 65497829522  
Status : Answered  
Chosen Option : 3

Q.14 The money value of all the final goods and services produced within the country during a particular year is called \_\_\_\_\_.

- Ans
- 1. net Domestic Product
  - 2. per capita income
  - 3. national Income
  - 4. gross Domestic Product

Question ID : 65497829511  
Status : Answered  
Chosen Option : 4

Q.15 'ला लीगा (La Liga)' खिताब \_\_\_\_\_ से संबंधित है।

- Ans
- 1. दौड़
  - 2. टेनिस
  - 3. फुटबॉल
  - 4. क्रिकेट

Question ID : 65497829508  
Status : Answered  
Chosen Option : 3

Q.16 निम्नलिखित में से किस राज्य ने जनवरी 2020 में 71 वें गणतंत्र दिवस परेड में 'सर्वश्रेष्ठ झांकी' का पुरस्कार जीता?

- Ans
- 1. उत्तर प्रदेश
  - 2. असम
  - 3. ओडिशा
  - 4. गोवा

Question ID : 65497829523  
Status : Answered  
Chosen Option : 4

Q.17 किसी वस्तु के त्वरण को तब \_\_\_\_\_ कहा जाता है जब वह वस्तु एक सीधी रेखा में गति करती है और समय के नियमित अंतराल में उसका वेग बढ़ता या घटता रहता है।

- Ans
- 1. धनात्मक
  - 2. ऋणात्मक
  - 3. एकसमान
  - 4. असमान

Question ID : 65497829516  
Status : Answered  
Chosen Option : 3

Q.18 निम्नलिखित में से सर्वाधिक अभिक्रियाशील धातु कौन सी है?

- Ans
- 1. पोटैशियम
  - 2. आयरन
  - 3. एल्युमीनियम
  - 4. सिल्वर

Question ID : 65497829513  
Status : Answered  
Chosen Option : 2

Q.19 होजेनक्कल जलप्रपात (Hogenakkal Falls) किस राज्य में स्थित है?

- Ans
- 1. तमिलनाडु
  - 2. महाराष्ट्र
  - 3. आंध्र प्रदेश
  - 4. केरल

Question ID : 65497829507  
Status : Answered  
Chosen Option : 4

Q.20 \_\_\_\_\_, ज्ञातुक (या ज्ञात्रिक) {Jnatrika (or) Jhatrika} क्षत्रिय वंश के प्रमुख के पुत्र थे।

- Ans
- 1. गौतम बुद्ध
  - 2. वर्धमान महावीर
  - 3. पार्श्वनाथ
  - 4. ऋषभनाथ

Question ID : 65497829527  
Status : Answered  
Chosen Option : 3

Q.21 1857 तक \_\_\_\_\_ भारत के मुगल सम्राटों का लगभग 200 वर्षों तक निवास स्थान रह चुका था।

- Ans
- 1. परी महल
  - 2. लाल किला
  - 3. आगरा का किला
  - 4. जहांगीर महल

Question ID : 65497829521  
Status : Answered  
Chosen Option : 3

Q.22 1865 में निम्नलिखित में से किसे बॉम्बे का पहला नगर आयुक्त नियुक्त किया गया था?

- Ans
- 1. चार्ल्स एटकिंसन
  - 2. विलियम हंटर
  - 3. एच फाउलर
  - 4. आर्थर क्रॉफर्ड

Question ID : 65497829510  
Status : Answered  
Chosen Option : 3

Q.23 निम्नलिखित में से किस राज्य में भोरमदेव मंदिर स्थित है, जहाँ प्रत्येक वर्ष मार्च के अंतिम सप्ताह में 'भोरमदेव महोत्सव' मनाया जाता है?

- Ans
- 1. तमिलनाडु
  - 2. कर्नाटक
  - 3. छत्तीसगढ़
  - 4. पश्चिम बंगाल

Question ID : 65497829512  
Status : Answered  
Chosen Option : 3

Q.24 निम्नलिखित में से किस देश ने 2020 आई.सी.सी. (ICC) अंडर 19 क्रिकेट विश्व कप के 13 वें संस्करण की मेजबानी की?

- Ans
- 1. भारत
  - 2. ऑस्ट्रेलिया
  - 3. इंग्लैंड
  - 4. दक्षिण अफ्रीका

Question ID : 65497829526  
Status : Answered  
Chosen Option : 1

Q.25 निम्नलिखित में से कौन सा जंतु अपनी त्वचा द्वारा श्वसन करता है?

- Ans
- 1. हिरण
  - 2. खरगोश
  - 3. मोर
  - 4. मेंढक

Question ID : 65497829514  
Status : Answered  
Chosen Option : 4

Section : Part C Elementary Mathematics

Q.1 A और B किसी काम को 120 दिनों में पूरा कर सकते हैं, B और C इसे 150 दिनों में पूरा कर सकते हैं तथा A और C इसे 200 दिनों में पूरा कर सकते हैं। B अकेले उस काम का  $\frac{2}{5}$  वां हिस्सा कितने दिनों में पूरा कर पाएगा?

- Ans
- 1. 80
  - 2. 200
  - 3. 100
  - 4. 175

Question ID : 65497829547  
Status : Answered  
Chosen Option : 1

Q.2 A किसी कार्य का  $\frac{2}{5}$  भाग, 6 दिन में कर सकता है और B उसी कार्य का 30% भाग, 3 दिन में कर सकता है। उन्होंने 4 दिन तक एक साथ काम किया। शेष कार्य अकेले C द्वारा 6 दिन में पूरा किया गया। B और C मिलकर मूल कार्य का 70% भाग \_\_\_\_\_ में पूरा कर सकते हैं।

- Ans
- 1. 5 दिन
  - 2.  $5\frac{1}{2}$  दिन
  - 3.  $4\frac{1}{2}$  दिन
  - 4. 4 दिन

Question ID : 65497829553  
Status : Answered  
Chosen Option : 2

Q.3 दो संख्याओं का अनुपात 9 : 5 है। यदि बड़ी संख्या में 8 जोड़ा जाता है और छोटी संख्या में से 4 घटाया जाता है, तो बड़ी संख्या छोटी संख्या से दोगुनी हो जाती है। वह बड़ी संख्या निम्न में से कौन सी है?

- Ans
- 1. 104
  - 2. 144
  - 3. 110
  - 4. 114

Question ID : 65497829538  
Status : Answered  
Chosen Option : 2

Q.4 एक वस्तु को अंकित मूल्य पर 20% छूट के बाद ₹120 में बेचा गया। यदि छूट नहीं दी जाती, तो इस पर 20% का लाभ होता। वस्तु का क्रय मूल्य ज्ञात करें।

- Ans
- 1. ₹120
  - 2. ₹125
  - 3. ₹100
  - 4. ₹130

Question ID : 65497829550  
Status : Answered  
Chosen Option : 3

Q.5  $42 \div 9 \text{ of } 6 - [64 \div 48 \times 3 - 15 \div 8 \times (11 - 17) \div 9] \div 14$  का मान ज्ञात कीजिए।

- Ans
- 1.  $\frac{19}{36}$
  - 2.  $\frac{7}{18}$
  - 3.  $\frac{29}{72}$
  - 4.  $\frac{5}{12}$

Question ID : 65497829551  
Status : Answered  
Chosen Option : 2

Q.6 एक व्यक्ति दो वस्तुएँ बेचता है जिनमें से प्रत्येक का मूल्य ₹9,180 है। उसे एक वस्तु पर 8% का लाभ होता है और दूसरी वस्तु पर 15% की हानि होती है। उसका कुल लाभ या हानि कितना है?

- Ans
- ✓ 1. ₹940 की हानि
  - ✗ 2. ₹840 की हानि
  - ✗ 3. ₹940 का लाभ
  - ✗ 4. ₹840 का लाभ

Question ID : 65497829532  
Status : Answered  
Chosen Option : 2

Q.7 निम्नलिखित का मान बताइए।  
 $523 + 523 \times 523 \div 523$

- Ans
- ✓ 1. 1046
  - ✗ 2. 1005
  - ✗ 3. 1542
  - ✗ 4. 1235

Question ID : 65497829542  
Status : Answered  
Chosen Option : 1

Q.8 4, 6, 8, 12 और  $x$  का औसत 7 है और  $x$ , 9, 13, 15 और  $y$  का औसत 9 है।  $2x - 3y$  का मान कितना होगा?

- Ans
- ✗ 1. 3
  - ✓ 2. 1
  - ✗ 3. 5
  - ✗ 4. 19

Question ID : 65497829544  
Status : Answered  
Chosen Option : 2

Q.9 यदि एक निश्चित धनराशि पर 9% वार्षिक ब्याज दर से दो वर्ष का चक्रवृद्धि ब्याज ₹3,762 है, तो वह धनराशि कितनी है?

- Ans
- ✗ 1. ₹18,000
  - ✗ 2. ₹25,000
  - ✓ 3. ₹20,000
  - ✗ 4. ₹24,000

Question ID : 65497829533  
Status : Answered  
Chosen Option : 2

Q.10 तीन संख्याएँ 4 : 9 : 13 के अनुपात में हैं और इनका लघुत्तम समापवर्त्य (LCM) 2340 है। इनका महत्तम समापवर्तक (HCF) कितना होगा?

- Ans
- 1. 5
  - 2. 4
  - 3. 3
  - 4. 7

Question ID : 65497829534  
Status : Answered  
Chosen Option : 2

Q.11 एक कार के मूल्य में 5% की वृद्धि होने पर उसकी बिक्री 16% कम हो जाती है। कुल राजस्व पर पड़ने वाले प्रतिशत प्रभाव की गणना कीजिए।

- Ans
- 1. 5% कमी
  - 2. 5% वृद्धि
  - 3. 9% वृद्धि
  - 4. 9% कमी

Question ID : 65497829546  
Status : Answered  
Chosen Option : 4

Q.12 वह बड़ी से बड़ी संख्या कौन सी है जिससे 2675 और 2320 को विभाजित करने पर शेषफल क्रमशः 5 और 6 प्राप्त होता है?

- Ans
- 1. 178
  - 2. 168
  - 3. 187
  - 4. 170

Question ID : 65497829536  
Status : Answered  
Chosen Option : 2

Q.13 विग्नेश अपनी मासिक आय का 42% भोजन पर, 16% मकान के किराए पर, 11% मनोरंजन पर और 7% परिवहन पर खर्च करता है। लेकिन किसी पारिवारिक समारोह के कारण, ₹18,000 के खर्चों की पूर्ति के लिए उसे साहूकार से ₹12,000 उधार लेने पड़े। उसकी मासिक आय कितनी है?

- Ans
- 1. ₹30,000
  - 2. ₹24,000
  - 3. ₹20,000
  - 4. ₹25,000

Question ID : 65497829535  
Status : Answered  
Chosen Option : 2



Q.14 किसी वायु-यान की चाल 120 km/min है। यह चाल m/sec में कितनी होगी?

- Ans
- ✓ 1. 2000
  - ✗ 2. 1200
  - ✗ 3. 12000
  - ✗ 4. 120000

Question ID : 65497829543  
Status : Answered  
Chosen Option : 1

Q.15 एक निश्चित धनराशि पर  $x\%$  वार्षिक साधारण ब्याज की दर से 3 वर्षों में प्राप्त मिश्रधन ₹5,472 है और समान राशि पर समान साधारण ब्याज की दर से  $7\frac{1}{2}$  वर्षों में प्राप्त मिश्रधन ₹6,930 है।  $x$  का मान ज्ञात कीजिए।

- Ans
- ✗ 1. 8
  - ✗ 2. 8.5
  - ✗ 3. 6.5
  - ✓ 4. 7.2

Question ID : 65497829555  
Status : Answered  
Chosen Option : 2

Q.16 किसी वस्तु के मूल्य पर 20% की छूट, किसी अन्य वस्तु के मूल्य पर 25% की छूट के बराबर है। दोनों वस्तुओं के मूल्य क्रमशः क्या होंगे?

- Ans
- ✗ 1. ₹40 और ₹50
  - ✓ 2. ₹50 और ₹40
  - ✗ 3. ₹50 और ₹60
  - ✗ 4. ₹60 और ₹50

Question ID : 65497829545  
Status : Answered  
Chosen Option : 2

Q.17 5 वर्ष पूर्व, A, B और C की आयु का अनुपात 4 : 5 : 7 था। उनकी वर्तमान आयु का योग 135 वर्ष है। अब से 3 वर्ष बाद, B और C की आयु का योग (वर्षों में) क्या होगा?

- Ans
- ✗ 1. 96
  - ✗ 2. 100
  - ✗ 3. 112
  - ✓ 4. 106

Question ID : 65497829554  
Status : Answered  
Chosen Option : 1

Q.18 यदि एक त्रिभुज की भुजाएं 21 cm, 35 cm और 28 cm हैं, तो इसकी अंतः त्रिज्या (in radius) की माप कितनी है? (cm में)

- Ans  1. 7 cm  
 2. 9 cm  
 3. 21 cm  
 4. 8 cm

Question ID : 65497829541  
Status : Answered  
Chosen Option : 1

Q.19 9 और 36 का तृतीयानुपाती कितना है?

- Ans  1. 144  
 2. 72  
 3. 122  
 4. 288

Question ID : 65497829540  
Status : Answered  
Chosen Option : 1

Q.20 एक दुकानदार के पास कुछ खिलौने हैं। वह दो-तिहाई खिलौनों को 35% के लाभ पर और शेष खिलौनों को 10% की हानि पर बेचता है। उसका कुल प्रतिशत लाभ कितना है?

- Ans  1. 18%  
 2. 20%  
 3. 16%  
 4. 25%

Question ID : 65497829552  
Status : Answered  
Chosen Option : 2

Q.21 दो ट्रेनें क्रमशः स्थानों A और B से चलना आरंभ करती हैं, और एक दूसरे की ओर क्रमशः 60 km/h और 50 km/h की चाल से यात्रा करती हैं। उनके मिलने से पहले तक तेज चाल वाली ट्रेन ने धीमी चाल वाली ट्रेन से 110 km अधिक दूरी तय की थी। स्थानों A और B के बीच की दूरी कितनी है?

- Ans  1. 1150 km  
 2. 1210 km  
 3. 1100 km  
 4. 1200 km

Question ID : 65497829548  
Status : Answered  
Chosen Option : 3

Q.22 किसी कक्षा के दो वर्ग A और B हैं, जिनमें क्रमशः 38 और 42 छात्र हैं। यदि वर्ग A के छात्रों का औसत वजन 55 kg और वर्ग B के छात्रों का औसत वजन 32 kg है, तो कक्षा के सभी छात्रों का औसत वजन ज्ञात करें।

- Ans
- 1. 42 kg
  - 2. 44.925 kg
  - 3. 40.925 kg
  - 4. 42.925 kg

Question ID : 65497829537  
Status : Answered  
Chosen Option : 4

Q.23 किसी धनराशि पर 8% की वार्षिक ब्याज दर पर 5 वर्ष में प्राप्त होने वाला साधारण ब्याज ₹3,040 है। वह धनराशि ज्ञात कीजिए।

- Ans
- 1. ₹7,600
  - 2. ₹8,600
  - 3. ₹7,700
  - 4. ₹6,600

Question ID : 65497829539  
Status : Answered  
Chosen Option : 1

Q.24 एक त्रिभुजाकार पार्क की भुजाएं 96 m, 110 m और 146 m हैं। इसका क्षेत्रफल उस समचतुर्भुजाकार मैदान के क्षेत्रफल के बराबर है, जिसका एक विकर्ण 60 m है। इसके दूसरे विकर्ण की लंबाई (m में) ज्ञात कीजिए।

- Ans
- 1. 218
  - 2. 132
  - 3. 176
  - 4. 88

Question ID : 65497829556  
Status : Answered  
Chosen Option : 2

Q.25 एक डीलर ने 4% हानि पर एक वस्तु बेची। यदि उसने इसे ₹120 अधिक में बेचा होता तो उसे 8% का लाभ प्राप्त होता। 11% लाभ प्राप्त करने के लिए उसे वस्तु को किस मूल्य पर बेचना चाहिए?

- Ans
- 1. ₹1,210
  - 2. ₹1,200
  - 3. ₹1,320
  - 4. ₹1,110

Question ID : 65497829549  
Status : Answered  
Chosen Option : 4

Section : Part D English

Q.1 Select the option that will improve the underlined part of the given sentence. In case no improvement is needed, select 'No improvement required'.

The new President has bring in many reforms.

- Ans
- 1. brought out
  - 2. bring up
  - 3. brought about
  - 4. No improvement required

Question ID : 65497829573  
Status : Not Answered  
Chosen Option : --

Q.2 The following sentence has been split into four segments. Identify the segment that contains a grammatical error.

The most important / of all my goals / are to/ learn English.

- Ans
- 1. of all my goals
  - 2. The most important
  - 3. learn English
  - 4. are to

Question ID : 65497829557  
Status : Not Answered  
Chosen Option : --

Q.3 Select the option that can be used as a one-word substitute for the given group of words.

A person who supervises during an examination

- Ans
- 1. Examinee
  - 2. Administrator
  - 3. Invigilator
  - 4. Principal

Question ID : 65497829576  
Status : Not Answered  
Chosen Option : --

Q.4 Select the most appropriate synonym of the given word.

Submissive

- Ans
- 1. Adamant
  - 2. Obedient
  - 3. Obdurate
  - 4. Obstinate

Question ID : 65497829558  
Status : Not Answered  
Chosen Option : --

**Q.5** Select the option that can be used as a one-word substitute for the given group of words.

Many fish swimming together

- Ans  1. Shoal  
 2. Flock  
 3. Bevy  
 4. Brood

Question ID : 65497829561  
Status : Not Answered  
Chosen Option : --

**Q.6** Select the most appropriate option that can substitute the underlined segment in the given sentence. If there is no need to substitute it, select 'No substitution required'.

The condition of the house had been so deteriorated from lack of maintenance that nobody wanted to purchase it.

- Ans  1. No substitution required  
 2. had so deteriorated  
 3. was deteriorating  
 4. was so deteriorated

Question ID : 65497829572  
Status : Not Answered  
Chosen Option : --

**Q.7** Select the most appropriate option that can substitute the underlined word in the given sentence.

Besides generating revenue, tourism brings a break from the ceremony of daily life.

- Ans  1. symphony  
 2. company  
 3. monotony  
 4. scrutiny

Question ID : 65497829559  
Status : Not Answered  
Chosen Option : --

**Q.8** Select the most appropriate meaning of the given idiom.

Tickled pink

- Ans  1. Very pleased  
 2. Very sensitive  
 3. Easily teased  
 4. Fond of pink

Question ID : 65497829560  
Status : Not Answered  
Chosen Option : --

Q.9 Select the most appropriate ANTONYM of the given word.

Spellbound

- Ans  1. Captivated  
 2. Disenchanted  
 3. Enthralled  
 4. Amazed

Question ID : 65497829569  
Status : Not Answered  
Chosen Option : --

Q.10 Select the most appropriate ANTONYM of the given word.

Fictitious

- Ans  1. False  
 2. Imaginative  
 3. Subjective  
 4. Factual

Question ID : 65497829566  
Status : Not Answered  
Chosen Option : --

Q.11 Select the most appropriate option to fill in the blank.

My sister bought the \_\_\_\_\_ watch.

- Ans  1. antipathy  
 2. antilocal  
 3. antique  
 4. colloquial

Question ID : 65497829570  
Status : Not Answered  
Chosen Option : --

Q.12 Select the INCORRECTLY spelt word.

- Ans  1. Tunnel  
 2. Wistle  
 3. Rustle  
 4. Cereal

Question ID : 65497829563  
Status : Not Answered  
Chosen Option : --

Q.13 Select the option that can be used as a one-word substitute for the given group of words.

One who collects coins

- Ans  1. Numismatist  
 2. Fatalist  
 3. Anthropologist  
 4. Philatelist

Question ID : 65497829567  
Status : Not Answered  
Chosen Option : --

Q.14 Select the most appropriate meaning of the given idiom.

To be on the same page

- Ans  1. To read a book together  
 2. To understand what the other says  
 3. To be published together  
 4. To agree on something

Question ID : 65497829571  
Status : Not Answered  
Chosen Option : --

Q.15 Select the most appropriate option to fill in the blank.

She \_\_\_\_\_ why I had not sent her an invitation.

- Ans  1. granted  
 2. enquired  
 3. denied  
 4. desired

Question ID : 65497829564  
Status : Not Answered  
Chosen Option : --

Q.16 The following sentence has been split into four segments. Identify the segment that contains a grammatical error.

I wish / I am / the Principal / of the school!

- Ans  1. of the school  
 2. I am  
 3. I wish  
 4. the Principal

Question ID : 65497829565  
Status : Not Answered  
Chosen Option : --

Q.17 Select the most appropriate SYNONYM of the given word.

Ample

- Ans
- 1. Scarce
  - 2. Sufficient
  - 3. Limited
  - 4. Sparse

Question ID : 65497829575  
Status : Not Answered  
Chosen Option : --

Q.18 Select the correctly spelt word.

- Ans
- 1. Philanthropist
  - 2. Bureaucracy
  - 3. Peadeatrician
  - 4. Asassisnation

Question ID : 65497829568  
Status : Not Answered  
Chosen Option : --

Q.19 Select the most appropriate option to fill in the blank.

The government should take steps to \_\_\_\_\_ pollution.

- Ans
- 1. convey
  - 2. conduct
  - 3. control
  - 4. consume

Question ID : 65497829562  
Status : Not Answered  
Chosen Option : --

Q.20 The following sentence has been split into four segments. Identify the segment that contains a grammatical error.

We'll look at / your pet / when you go / on a vacation.

- Ans
- 1. when you go
  - 2. your pet
  - 3. on a vacation
  - 4. We'll look at

Question ID : 65497829574  
Status : Not Answered  
Chosen Option : --



**Comprehension:**

In the following passage, some words have been deleted. Read the passage carefully and select the most appropriate option to fill in each blank.

Writing is a form (1)\_\_\_\_\_, and neat handwriting is important when writing (2)\_\_\_\_\_ that will be read by someone else. We (3)\_\_\_\_\_ by the quality of our handwriting, and (4)\_\_\_\_\_ our handwriting is poor, we (5)\_\_\_\_\_ to be lazy or incompetent.

**SubQuestion No : 21**

**Q.21 Select the most appropriate option to fill in blank no. 1.**

- Ans  1. in expression  
 2. to expressing  
 3. of expression  
 4. for expression

Question ID : 65497829578

Status : Not Answered

Chosen Option : --

**Comprehension:**

In the following passage, some words have been deleted. Read the passage carefully and select the most appropriate option to fill in each blank.

Writing is a form (1)\_\_\_\_\_, and neat handwriting is important when writing (2)\_\_\_\_\_ that will be read by someone else. We (3)\_\_\_\_\_ by the quality of our handwriting, and (4)\_\_\_\_\_ our handwriting is poor, we (5)\_\_\_\_\_ to be lazy or incompetent.

**SubQuestion No : 22**

**Q.22 Select the most appropriate option to fill in blank no. 2.**

- Ans  1. each thing  
 2. anything  
 3. everything  
 4. nothing

Question ID : 65497829579

Status : Not Answered

Chosen Option : --

**Comprehension:**

In the following passage, some words have been deleted. Read the passage carefully and select the most appropriate option to fill in each blank.

Writing is a form (1)\_\_\_\_\_, and neat handwriting is important when writing (2)\_\_\_\_\_ that will be read by someone else. We (3)\_\_\_\_\_ by the quality of our handwriting, and (4)\_\_\_\_\_ our handwriting is poor, we (5)\_\_\_\_\_ to be lazy or incompetent.

**SubQuestion No : 23**

**Q.23 Select the most appropriate option to fill in blank no. 3.**

- Ans  1. are often judged  
 2. judged often  
 3. should be often judged  
 4. have been often judged

Question ID : 65497829580

Status : Not Answered

Chosen Option : --

**Comprehension:**

In the following passage, some words have been deleted. Read the passage carefully and select the most appropriate option to fill in each blank.

Writing is a form (1)\_\_\_\_\_, and neat handwriting is important when writing (2)\_\_\_\_\_ that will be read by someone else. We (3)\_\_\_\_\_ by the quality of our handwriting, and (4)\_\_\_\_\_ our handwriting is poor, we (5)\_\_\_\_\_ to be lazy or incompetent.

**SubQuestion No : 24**

**Q.24 Select the most appropriate option to fill in blank no. 4.**

Ans  1. when

2. while

3. where

4. as

Question ID : 65497829581

Status : Not Answered

Chosen Option : --

**Comprehension:**

In the following passage, some words have been deleted. Read the passage carefully and select the most appropriate option to fill in each blank.

Writing is a form (1)\_\_\_\_\_, and neat handwriting is important when writing (2)\_\_\_\_\_ that will be read by someone else. We (3)\_\_\_\_\_ by the quality of our handwriting, and (4)\_\_\_\_\_ our handwriting is poor, we (5)\_\_\_\_\_ to be lazy or incompetent.

**SubQuestion No : 25**

**Q.25 Select the most appropriate option to fill in blank no. 5.**

Ans  1. expose

2. look

3. appear

4. see

Question ID : 65497829582

Status : Not Answered

Chosen Option : --

Section : Part D Hindi

**Q.1 रिक्त स्थान की पूर्ति के लिए सबसे उपयुक्त विकल्प का चयन करें।**

श्याम को रोगी पर \_\_\_\_\_ आ गई।

Ans  1. दया

2. अनुकंपा

3. क्षमा

4. कृपा

Question ID : 65497829602

Status : Answered

Chosen Option : 1

Q.2 दिए गए वाक्यांश के लिए एक शब्द दीजिए।

प्रार्थना या निवेदन करने वाला

- Ans
- 1. स्तुति
  - 2. भजन
  - 3. भक्त वत्सल
  - 4. प्रार्थी

Question ID : 65497829583  
Status : Answered  
Chosen Option : 4

Q.3 'विशाल' का विलोम शब्द होगा-

- Ans
- 1. लघु
  - 2. क्षणिक
  - 3. विकराल
  - 4. विराट

Question ID : 65497829600  
Status : Answered  
Chosen Option : 2

Q.4 दिये गये वाक्य के किस भाग में त्रुटि है?

मैंने सारा माल उसके हाथ में बेच दिया है।

- Ans
- 1. बेच
  - 2. दिया है।
  - 3. मैंने सारा माल
  - 4. उसके हाथ में

Question ID : 65497829599  
Status : Answered  
Chosen Option : 4

Q.5 दिए गए वाक्य में रेखांकित खंड को प्रतिस्थापित करने के लिए सबसे उपयुक्त विकल्प का चयन करें।  
यदि इसे प्रतिस्थापित करने की आवश्यकता नहीं है, तो विकल्प 'किसी बदलाव की आवश्यकता नहीं है'  
का चयन करें।

रात दस बजे से दिल्ली में जंक्शन से हम कश्मीर मेल में सवार हुए।

- Ans
- 1. रात दस बजे तक दिल्ली में जंक्शन में हम
  - 2. रात दस बजे, दिल्ली के जंक्शन से हम
  - 3. रात दस बजे से, दिल्ली के जंक्शन से हम
  - 4. किसी बदलाव की आवश्यकता नहीं है।

Question ID : 65497829588  
Status : Answered  
Chosen Option : 2

Q.6 दिए गए शब्द का समानार्थी शब्द चुनें-

युक्ति

- Ans  1. संलग्न  
 2. युक्त  
 3. जुड़ा हुआ  
 4. उपाय

Question ID : 65497829595  
Status : Answered  
Chosen Option : 4

Q.7 दिए गए शब्द का समानार्थी शब्द बताइए-

कोयल

- Ans  1. कोकिला  
 2. काक  
 3. शिखी  
 4. कीर

Question ID : 65497829585  
Status : Answered  
Chosen Option : 1

Q.8 दिये गये वाक्य में रेखांकित अंश को प्रतिस्थापित करने के लिए सबसे उपयुक्त विकल्प का चयन करें।

उसे व्याकरण का अच्छा बोध है।

- Ans  1. समझ  
 2. ज्ञान  
 3. भान  
 4. आभास

Question ID : 65497829596  
Status : Answered  
Chosen Option : 2

Q.9 रिक्त स्थान की पूर्ति के लिए सबसे उपयुक्त शब्द का चयन करें-

रोगी ने चिकित्सक से \_\_\_\_\_ लिया।

- Ans  1. परामर्श  
 2. अनुदान  
 3. आज्ञा  
 4. मंत्रणा

Question ID : 65497829586  
Status : Answered  
Chosen Option : 1

Q.10 'ऊपर की ओर जाने वाला' वाक्यांश के लिए एक शब्द होगा-

- Ans
- 1. अधोगामी
  - 2. प्रतिगामी
  - 3. आगामी
  - 4. ऊर्ध्वगामी

Question ID : 65497829601  
Status : Answered  
Chosen Option : 4

Q.11 सही वर्तनी वाले शब्द का चयन करें।

- Ans
- 1. वनस्पती
  - 2. बनस्पती
  - 3. वनास्पती
  - 4. वनस्पति

Question ID : 65497829589  
Status : Answered  
Chosen Option : 4

Q.12 सही वर्तनी वाले शब्द का चयन करें।

- Ans
- 1. प्रलहाद
  - 2. प्रहलाद
  - 3. पहलाद
  - 4. प्रल्हाद

Question ID : 65497829590  
Status : Answered  
Chosen Option : 2

Q.13 रिक्त स्थान की पूर्ति के लिए सबसे उपयुक्त शब्द का चयन करें-

वह वृक्ष की \_\_\_\_\_ डाली काट रहा था।

- Ans
- 1. सामान्य
  - 2. सुखी
  - 3. सखी
  - 4. सूखी

Question ID : 65497829587  
Status : Answered  
Chosen Option : 4

Q.14 'आग में कूदना' मुहावरे का सही अर्थ है-

- Ans
- 1. जान जोखिम में डालना
  - 2. मूर्ख होना
  - 3. पश्चाताप करना
  - 4. मदद करना

Question ID : 65497829597  
Status : Answered  
Chosen Option : 1

Q.15 उस विकल्प का चयन करें जो निम्न मुहावरे का अर्थ व्यक्त करता है।

कलेजा ठंडा होना

- Ans
- 1. प्रिय होना
  - 2. मन में शान्ति होना
  - 3. धीरज रखना
  - 4. बहुत दुखी होना

Question ID : 65497829592  
Status : Answered  
Chosen Option : 2

Q.16 चंद्रमा के समान मुखवाला - वाक्यांश के लिए एक शब्द लिखिए-

- Ans
- 1. दसमुख
  - 2. गदाधर
  - 3. लौहपुरुष
  - 4. चंद्रमुख

Question ID : 65497829598  
Status : Answered  
Chosen Option : 4

Q.17 दिए गए शब्द का विलोम चुनें।

निर्मल

- Ans
- 1. मलिन
  - 2. गंदा
  - 3. मैला
  - 4. विमल

Question ID : 65497829591  
Status : Answered  
Chosen Option : 4

Q.18 दिए गए वाक्य का वह भाग ज्ञात करें जिसमें कोई त्रुटि है। यदि कोई त्रुटि नहीं है, तो 'कोई त्रुटि नहीं है' चुनें।

कई रेलवे के(1)/ कर्मचारियों की(2)/ गिरफ्तारी हुई।(3)/ कोई त्रुटि नहीं है।(4)

- Ans
- 1. 4
  - 2. 1
  - 3. 3
  - 4. 2

Question ID : 65497829594  
Status : Answered  
Chosen Option : 2

Q.19 दिए गए वाक्य में रेखांकित खंड को प्रतिस्थापित करने के लिए सबसे उपयुक्त विकल्प का चयन करें। यदि इसे प्रतिस्थापित करने की आवश्यकता नहीं है, तो विकल्प 'किसी बदलाव की आवश्यकता नहीं है' का चयन करें।

भाई साहब को मुझे एक रुपया दिया है।

- Ans
- 1. किसी बदलाव की आवश्यकता नहीं है।
  - 2. भाई साहब द्वारा
  - 3. भाई साहब ने
  - 4. भाई साहब

Question ID : 65497829593

Status : Answered

Chosen Option : 3

Q.20 दिए गए वाक्य का वो भाग ज्ञात करें जिसमें कोई त्रुटि है। यदि कोई त्रुटि नहीं है, तो 'कोई त्रुटि नहीं है' चुनें।

शकीला भोपाली (1)\ प्रसिद्ध कव्वाली (2)\ गायकी हैं (3)\ कोई त्रुटि नहीं है (4)

- Ans
- 1. 1
  - 2. 2
  - 3. 3
  - 4. 4

Question ID : 65497829584

Status : Answered

Chosen Option : 3

**Comprehension:**

भारतवर्ष (1) \_\_\_\_\_ है और देश में भाषाएं चाहे जितनी भी हों, लेकिन उन सबके भीतर भारत की एक ही (2) \_\_\_\_\_ अपने को (3) \_\_\_\_\_ करती है। एक ही गंगोत्री का जल है जो अनेक नदियों में बह रहा है, एक ही सूर्य का (4) \_\_\_\_\_ है जो अनेक पात्रों में जगमगा रहा है और एक ही (5) \_\_\_\_\_ है जो अनेक छंदों में फूट रहा है। वेद, उपनिषद, रामायण और महाभारत – ये ही वे घाट हैं जहां पर हमारी सभी भाषाएं पानी पीती हैं।

निम्न प्रश्नों के उत्तर उपरोक्त गद्यांश के आधार पर दीजिए।

**SubQuestion No : 21**

Q.21 गद्यांश के रिक्त स्थान (1) के लिए सर्वाधिक उपयुक्त शब्द होगा-

- Ans
- 1. प्रत्येक
  - 2. अनेक
  - 3. भिन्न
  - 4. एक

Question ID : 65497829604

Status : Answered

Chosen Option : 4

**Comprehension:**

भारतवर्ष (1) \_\_\_\_\_ है और देश में भाषाएं चाहे जितनी भी हों, लेकिन उन सबके भीतर भारत की एक ही (2) \_\_\_\_\_ अपने को (3) \_\_\_\_\_ करती है। एक ही गंगोत्री का जल है जो अनेक नदियों में बह रहा है, एक ही सूर्य का (4) \_\_\_\_\_ है जो अनेक पात्रों में जगमगा रहा है और एक ही (5) \_\_\_\_\_ है जो अनेक छंदों में फूट रहा है। वेद, उपनिषद, रामायण और महाभारत – ये ही वे घाट हैं जहां पर हमारी सभी भाषाएं पानी पीती हैं।

निम्न प्रश्नों के उत्तर उपरोक्त गद्यांश के आधार पर दीजिए।

**SubQuestion No : 22**

**Q.22** गद्यांश के रिक्त स्थान (2) के लिए सर्वाधिक उपयुक्त शब्द होगा-

- Ans  1. निष्ठा  
 2. आत्मा  
 3. प्रतिष्ठा  
 4. परमात्मा

Question ID : 65497829605

Status : Answered

Chosen Option : 2

**Comprehension:**

भारतवर्ष (1) \_\_\_\_\_ है और देश में भाषाएं चाहे जितनी भी हों, लेकिन उन सबके भीतर भारत की एक ही (2) \_\_\_\_\_ अपने को (3) \_\_\_\_\_ करती है। एक ही गंगोत्री का जल है जो अनेक नदियों में बह रहा है, एक ही सूर्य का (4) \_\_\_\_\_ है जो अनेक पात्रों में जगमगा रहा है और एक ही (5) \_\_\_\_\_ है जो अनेक छंदों में फूट रहा है। वेद, उपनिषद, रामायण और महाभारत – ये ही वे घाट हैं जहां पर हमारी सभी भाषाएं पानी पीती हैं।

निम्न प्रश्नों के उत्तर उपरोक्त गद्यांश के आधार पर दीजिए।

**SubQuestion No : 23**

**Q.23** गद्यांश के रिक्त स्थान (3) के लिए सर्वाधिक उपयुक्त शब्द होगा-

- Ans  1. अर्पित  
 2. अभिव्यक्त  
 3. प्रदर्शित  
 4. संशोधित

Question ID : 65497829606

Status : Answered

Chosen Option : 2

**Comprehension:**

भारतवर्ष (1) \_\_\_\_\_ है और देश में भाषाएं चाहे जितनी भी हों, लेकिन उन सबके भीतर भारत की एक ही (2) \_\_\_\_\_ अपने को (3) \_\_\_\_\_ करती है। एक ही गंगोत्री का जल है जो अनेक नदियों में बह रहा है, एक ही सूर्य का (4) \_\_\_\_\_ है जो अनेक पात्रों में जगमगा रहा है और एक ही (5) \_\_\_\_\_ है जो अनेक छंदों में फूट रहा है। वेद, उपनिषद, रामायण और महाभारत – ये ही वे घाट हैं जहां पर हमारी सभी भाषाएं पानी पीती हैं।

निम्न प्रश्नों के उत्तर उपरोक्त गद्यांश के आधार पर दीजिए।

**SubQuestion No : 24**

**Q.24** गद्यांश के रिक्त स्थान (4) के लिए सर्वाधिक उपयुक्त शब्द होगा-

- Ans  1. रस  
 2. बिम्ब  
 3. चित्र  
 4. दर्पण

Question ID : 65497829607

Status : Answered

Chosen Option : 2



**Comprehension:**

भारतवर्ष (1) \_\_\_\_\_ है और देश में भाषाएं चाहे जितनी भी हों, लेकिन उन सबके भीतर भारत की एक ही (2) \_\_\_\_\_ अपने को (3) \_\_\_\_\_ करती है। एक ही गंगोत्री का जल है जो अनेक नदियों में बह रहा है, एक ही सूर्य का (4) \_\_\_\_\_ है जो अनेक पात्रों में जगमगा रहा है और एक ही (5) \_\_\_\_\_ है जो अनेक छंदों में फूट रहा है। वेद, उपनिषद, रामायण और महाभारत – ये ही वे घाट हैं जहां पर हमारी सभी भाषाएं पानी पीती हैं।

निम्न प्रश्नों के उत्तर उपरोक्त गद्यांश के आधार पर दीजिए।

**SubQuestion No : 25**

**Q.25** गद्यांश के रिक्त स्थान (5) के लिए सर्वाधिक उपयुक्त शब्द होगा-

- Ans  1. अर्थ  
 2. भाव  
 3. नाम  
 4. बल

Question ID : 65497829608

Status : Answered

Chosen Option : 2

[www.exammix.com](http://www.exammix.com)