

## Multi Tasking Non Technical Staff Examination 2020

Participant ID	www.exammix.com
Participant Name	
Test Center Name	
Test Date	05/10/2021
Test Time :	9:00 AM - 10:30 AM
Subject	MTS Non Technical 2020

Section : **General English**

**Q.1** Select the most appropriate synonym of the given word.

**INDULGENCE**

- Ans  1. accuracy  
 2. leniency  
 3. diligence  
 4. attentiveness

Question ID : **65497814811**  
Chosen Option : **3**

**Q.2** Select the most appropriate meaning of the given idiom.

**By the same token**

- Ans  1. Use the same password  
 2. Use the same ticket  
 3. In the same way  
 4. In the same bus

Question ID : **65497814813**  
Chosen Option : **2**

**Q.3** Select the most appropriate option to fill in the blank.

Today, banking in a seamless world \_\_\_\_\_ a distinct reality.

- Ans  1. are  
 2. was  
 3. have  
 4. is

Question ID : **65497814798**  
Chosen Option : **4**

**Q.4 Identify the segment in the sentence which contains a grammatical error.**

Have you decided what you want to become when you grown up.

- Ans  1. when you grown up  
 2. to become  
 3. Have you decided  
 4. what you want

Question ID : 65497814794  
Chosen Option : 1

**Q.5 Select the most appropriate ANTONYM of the given word.**

SLY

- Ans  1. thick  
 2. slow  
 3. honest  
 4. stiff

Question ID : 65497814809  
Chosen Option : 1

**Q.6 Identify the segment in the sentence which contains a grammatical error.**

Seldom has the discoveries of the world's greatest discoverers, like Copernicus or Galileo, been forgotten.

- Ans  1. like Copernicus or Galileo  
 2. of the world's greatest discoverers  
 3. been forgotten  
 4. Seldom has the discoveries

Question ID : 65497814796  
Chosen Option : 4

**Q.7 Select the INCORRECTLY spelt word.**

- Ans  1. obvious  
 2. queer  
 3. hesitete  
 4. dealer

Question ID : 65497814816  
Chosen Option : 3

**Q.8 Select the INCORRECTLY spelt word.**

- Ans  1. outhority  
 2. condition  
 3. meddle  
 4. edible

Question ID : 65497814817  
Chosen Option : 1

**Q.9** Select the most appropriate option to fill in the blank.

The \_\_\_\_\_ for a vaccine could take up to a year.

- Ans
- 1. chase
  - 2. pursuit
  - 3. track
  - 4. search

Question ID : 65497814818  
Chosen Option : 1

**Q.10** Select the most appropriate option to substitute the underlined segment in the given sentence. If there is no need to substitute it, select 'No substitution required'.

I can't live at a place which is far from the sea.

- Ans
- 1. No substitution required
  - 2. hasn't lived
  - 3. can't lived
  - 4. couldn't being live

Question ID : 65497816625  
Chosen Option : 1

**Q.11** Select the most appropriate synonym of the given word.

**PROTEST (v.)**

- Ans
- 1. support
  - 2. assist
  - 3. object
  - 4. favour

Question ID : 65497814810  
Chosen Option : 3

**Q.12** Select the most appropriate one-word substitution for the given words.

One who interferes in the affairs of others, often for selfish reasons

- Ans
- 1. interloper
  - 2. interpreter
  - 3. foreigner
  - 4. stranger

Question ID : 65497814815  
Chosen Option : 1

Q.13 Select the most appropriate ANTONYM of the given word.

**NARROW**

- Ans  1. wide  
 2. firm  
 3. tight  
 4. solid

Question ID : 65497814808  
Chosen Option : 1

Q.14 Select the most appropriate meaning of the given idiom.

**To get on the nerves**

- Ans  1. To soothe  
 2. To have an illness  
 3. To give medicine  
 4. To irritate

Question ID : 65497814812  
Chosen Option : 4

Q.15 Select the most appropriate one-word substitution for the given group of words.

**Restore (someone) to health or normal life after imprisonment, addiction, or illness**

- Ans  1. refurbish  
 2. renovate  
 3. reinstate  
 4. rehabilitate

Question ID : 65497814814  
Chosen Option : 4

Q.16 Select the most appropriate option to fill in the blank.

I hope your parents \_\_\_\_\_ soon.

- Ans  1. are recovering  
 2. recover  
 3. should recover  
 4. are recover

Question ID : 65497814797  
Chosen Option : 2

Q.17 Select the most appropriate option to substitute the underlined segment in the given sentence. If there is no need to substitute it, select 'No substitution required'.

There are many birds in the verandah today. Hema, please feed those.

- Ans
- 1. fed those
  - 2. No substitution required
  - 3. fed them
  - 4. feed them

Question ID : 65497814503  
Chosen Option : 4

Q.18 Identify the segment in the sentence which contains a grammatical error.

We do hope you are enjoy this online course in art and craft.

- Ans
- 1. in art and craft
  - 2. you are enjoy
  - 3. We do hope
  - 4. this online course

Question ID : 65497814795  
Chosen Option : 2

Q.19 Select the most appropriate option to substitute the underlined segment in the given sentence. If there is no need to substitute it, select 'No substitution required'.

During the winter months the bears go without food by nearly six to seven months.

- Ans
- 1. No substitution required
  - 2. from almost
  - 3. for almost
  - 4. for quite

Question ID : 65497814805  
Chosen Option : 3

Q.20 Select the most appropriate option to fill in the blank.

Many \_\_\_\_\_ tales evoke the memory of Akbar and Birbal.

- Ans
- 1. populous
  - 2. popular
  - 3. populated
  - 4. populist

Question ID : 65497814819  
Chosen Option : 2

**Comprehension:**

In the following passage some words have been deleted. Fill in the blanks with the help of the alternatives given. Select the most appropriate option for each blank.

One day while the magistrate was walking (1)\_\_\_\_\_ a market he saw a crowd outside a poultry shop. (2)\_\_\_\_\_ enquiring what the matter was (3)\_\_\_\_\_ learnt that a peasant had accidentally (4)\_\_\_\_\_ a heavy sack on a chicken, (5)\_\_\_\_\_ it to death.

**SubQuestion No : 21**

**Q.21 Select the most appropriate option to fill in blank number 1.**

- Ans  1. along  
 2. over  
 3. through  
 4. aside

Question ID : 65497814800  
Chosen Option : 3

**Comprehension:**

In the following passage some words have been deleted. Fill in the blanks with the help of the alternatives given. Select the most appropriate option for each blank.

One day while the magistrate was walking (1)\_\_\_\_\_ a market he saw a crowd outside a poultry shop. (2)\_\_\_\_\_ enquiring what the matter was (3)\_\_\_\_\_ learnt that a peasant had accidentally (4)\_\_\_\_\_ a heavy sack on a chicken, (5)\_\_\_\_\_ it to death.

**SubQuestion No : 22**

**Q.22 Select the most appropriate option to fill in blank number 2.**

- Ans  1. Whereas  
 2. How  
 3. On  
 4. So

Question ID : 65497814801  
Chosen Option : 3

**Comprehension:**

In the following passage some words have been deleted. Fill in the blanks with the help of the alternatives given. Select the most appropriate option for each blank.

One day while the magistrate was walking (1)\_\_\_\_\_ a market he saw a crowd outside a poultry shop. (2)\_\_\_\_\_ enquiring what the matter was (3)\_\_\_\_\_ learnt that a peasant had accidentally (4)\_\_\_\_\_ a heavy sack on a chicken, (5)\_\_\_\_\_ it to death.

**SubQuestion No : 23**

**Q.23 Select the most appropriate option to fill in blank number 3.**

- Ans  1. she  
 2. he  
 3. they  
 4. him

Question ID : 65497814802  
Chosen Option : 2

**Comprehension:**

In the following passage some words have been deleted. Fill in the blanks with the help of the alternatives given. Select the most appropriate option for each blank.

One day while the magistrate was walking (1)\_\_\_\_\_ a market he saw a crowd outside a poultry shop. (2)\_\_\_\_\_ enquiring what the matter was (3)\_\_\_\_\_ learnt that a peasant had accidentally (4)\_\_\_\_\_ a heavy sack on a chicken, (5)\_\_\_\_\_ it to death.

**SubQuestion No : 24**

**Q.24 Select the most appropriate option to fill in blank number 4.**

- Ans  1. selected  
 2. dropped  
 3. picked  
 4. filled

Question ID : 65497814803  
Chosen Option : 4

**Comprehension:**

In the following passage some words have been deleted. Fill in the blanks with the help of the alternatives given. Select the most appropriate option for each blank.

One day while the magistrate was walking (1)\_\_\_\_\_ a market he saw a crowd outside a poultry shop. (2)\_\_\_\_\_ enquiring what the matter was (3)\_\_\_\_\_ learnt that a peasant had accidentally (4)\_\_\_\_\_ a heavy sack on a chicken, (5)\_\_\_\_\_ it to death.

**SubQuestion No : 25**

**Q.25 Select the most appropriate option to fill in blank number 5.**

- Ans  1. creeping  
 2. covering  
 3. crushing  
 4. crumbling

Question ID : 65497814804  
Chosen Option : 2

Section : **General Intelligence and Reasoning**

**Q.1 एक निश्चित कूट भाषा में, यदि SMOOTHIE को UKQMVFKC लिखा जाता है, तो उसी कूट भाषा में HEAVENLY को क्या लिखा जाएगा?**

- Ans  1. FCYTCLJW  
 2. JGCXGPNA  
 3. JCCTGLNW  
 4. FGYXCPJA

Question ID : 65497814524  
Chosen Option : 3

Q.2 एक निश्चित कूट भाषा में, यदि PETITION को 75292965 के रूप में, और GERMINATE को 759495125 के रूप में कूटबद्ध किया जाता है, तो उसी भाषा में COMPLEX को किस रूप में कूटबद्ध किया जाता है?


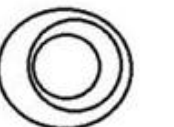

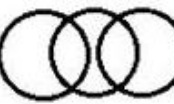
- Ans
- 1. 4647256
  - 2. 3647356
  - 3. 3536254
  - 4. 4514776

Question ID : 65497814526  
Chosen Option : 2

Q.3 दिए गये विकल्पों में से उस वेन आरेख का चयन कीजिए जो निम्नांकित वर्गों के मध्य संबंध का सर्वश्रेष्ठ निरूपण करता है।

पेंसिल, शार्पनर, लेड

Ans

- 1. 
- 2. 
- 3. 
- 4. 

Question ID : 65497814541  
Chosen Option : 1


Q.4 'Sewing' is related to 'Tailor' in the same way as 'Painting' is related to '\_\_\_\_\_'.  
www.exammix.com

- Ans
- 1. Painter
  - 2. Canvas
  - 3. Printer
  - 4. Paint

Question ID : 65497814528  
Chosen Option : 1



Q.5 उस विकल्प आकृति की पहचान कीजिए जो निम्नांकित पैटर्न को पूर्ण करेगी।

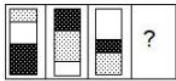


Ans


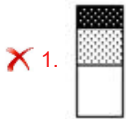


Question ID : 65497814537  
Chosen Option : 1

Q.6 उस आकृति का चयन कीजिए जो निम्नांकित आकृति श्रृंखला में प्रश्नवाचक चिह्न (?) के स्थान पर आएगी।



Ans



Question ID : 65497814536  
Chosen Option : 4

Q.7 दो कथन और उसके बाद दो निष्कर्ष I और II दिए गए हैं। यह मानते हुए कि कथन सत्य हैं, भले ही वे सामान्य रूप से ज्ञात तथ्यों से भिन्न प्रतीत होते हों, बताएं कि कौन सा/से निष्कर्ष दिए गए कथनों का तार्किक रूप से अनुसरण करता है/करते हैं?

कथन:  
सभी कप प्लेट हैं।  
कुछ प्लेट तश्तरी हैं।

निष्कर्ष:  
I. सभी प्लेट कप हैं।  
II. कुछ कप तश्तरी हैं।

- Ans  1. निष्कर्ष I और II दोनों अनुसरण करते हैं  
 2. न तो निष्कर्ष I और न ही II अनुसरण करता है  
 3. केवल निष्कर्ष II अनुसरण करता है  
 4. केवल निष्कर्ष I अनुसरण करता है

Question ID : 65497814531  
Chosen Option : 3

Q.8 उस संख्या-युग्म का चयन करें, जिसमें संख्याएं एक-दूसरे से ठीक उसी प्रकार संबंधित हैं जिस प्रकार निम्न संख्या-युग्म की संख्याएं एक-दूसरे से संबंधित हैं।

144 : 168

- Ans  1. 121 : 143  
 2. 169 : 159  
 3. 64 : 82  
 4. 81 : 100

Question ID : 65497814519  
Chosen Option : 1

Q.9 दिए गए विकल्पों में से गणितीय चिह्नों के उस संयोजन का चयन करें जिसे निम्न समीकरण में \* के स्थान पर क्रमिक रूप से रखने पर समीकरण संतुलित हो जाएगा।

$46 * 72 * 18 * 27 * 135 = 19$

- Ans  1. -, ×, +, +  
 2. +, +, ×, -  
 3. +, -, +, ×  
 4. ×, +, -, +

Question ID : 65497814518  
Chosen Option : 2

Q.10 छः लोग ग्रुप फोटोग्राफ के लिए कैमरे के समक्ष पोज दे रहे हैं। P ठीक N और S के बीच में है, जबकि Q, N के बाईं ओर पड़ोस में है। O दाएं छोर पर है, जबकि उसके बाईं ओर पड़ोस में R है। S के दाईं ओर पड़ोस में कौन है?

- Ans  1. N  
 2. Q  
 3. R  
 4. P

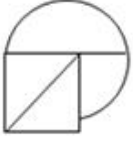
Question ID : 65497814534  
Chosen Option : 3

Q.11 यदि दर्पण को दी गई आकृति के दाईं ओर रखा जाए, तो दर्पण में निर्मित सही प्रतिबिंब का चयन कीजिए।



Ans

✗ 1.



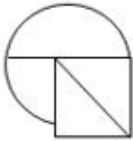
✗ 2.



✓ 3.



✗ 4.



Question ID : 65497814539  
Chosen Option : 3

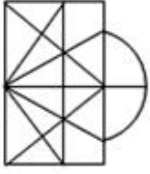
www.exammix.com

Q.12 उस विकल्प का चयन कीजिए जिसमें दी गई आकृति अंतर्निहित है (घुमाने की अनुमति नहीं है)।

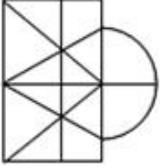


Ans

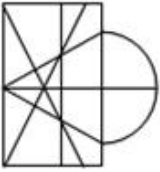
✗ 1.



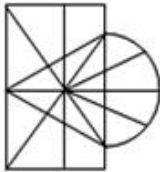
✗ 2.



✗ 3.



✓ 4.



Question ID : 65497814538  
Chosen Option : 4

Q.13 उस समुच्चय का चयन करें, जिसमें संख्याएं एक-दूसरे से ठीक उसी प्रकार संबंधित हैं, जिस प्रकार निम्न समुच्चय की संख्याएं एक-दूसरे से संबंधित हैं।

(4, 3, 35)

Ans

✗ 1. (6, 9, 65)

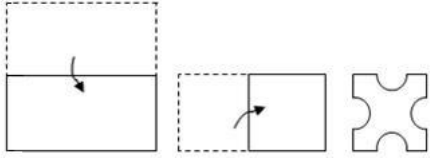
✓ 2. (7, 12, 95)

✗ 3. (8, 13, 110)

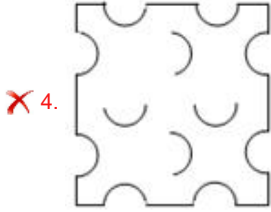
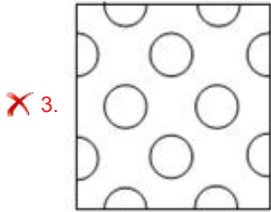
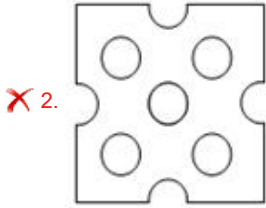
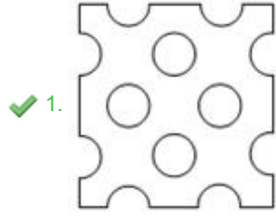
✗ 4. (9, 18, 153)

Question ID : 65497814520  
Chosen Option : 2

Q.14 एक कागज को निम्नानुसार मोड़ा और काटा गया है। इसे खोलने पर यह कैसा दिखेगा?



Ans



Question ID : 65497814540

Chosen Option : 1

Q.15 उस विकल्प का चयन कीजिए जिसका तीसरे अक्षर-समूह से वही संबंध है, जो दूसरे अक्षर-समूह का पहले अक्षर-समूह से है।

FLUIDITY : YUTLIIFD :: IMPROVISE : ?

Ans ✗ 1. VRPSOIIIME

✗ 2. PMIVORESİ

✓ 3. VSRPOMIIE

✗ 4. ORPMIESIV

Question ID : 65497814527

Chosen Option : 3

Q.16 दो कथन और उसके बाद दो निष्कर्ष I और II दिए गए हैं। यह मानते हुए कि कथन सत्य हैं, भले ही वे सामान्य रूप से ज्ञात तथ्यों से भिन्न प्रतीत होते हों, बताएं कि कौन सा/से निष्कर्ष दिए गए कथनों का तार्किक रूप से अनुसरण करता है/करते हैं?

कथन:  
कुछ पैन बोटल हैं।  
सभी बोटल मग हैं।

निष्कर्ष:  
I. सभी मग बोटल हैं।  
II. कुछ मग पैन हैं।

- Ans  1. केवल निष्कर्ष I अनुसरण करता है  
 2. केवल निष्कर्ष II अनुसरण करता है  
 3. न तो निष्कर्ष I और न ही II अनुसरण करता है  
 4. निष्कर्ष I और II दोनों अनुसरण करते हैं

Question ID : 65497814532  
Chosen Option : 2

Q.17 निम्न श्रेणी में प्रश्नवाचक चिह्न (?) के स्थान पर कौन सी संख्या आएगी?

6, 11, 18, 27, 38, ?

- Ans  1. 53  
 2. 49  
 3. 51  
 4. 54

Question ID : 65497814522  
Chosen Option : 3

Q.18 एक निश्चित कूट भाषा में, यदि FEVERISH को 29 के रूप में और COUNSEL को 98 के रूप में कूटबद्ध किया जाता है, तो उसी कूट भाषा में MUTATED को किस रूप में कूटबद्ध किया जाएगा?

- Ans  1. 80  
 2. 92  
 3. 48  
 4. 84

Question ID : 65497814525  
Chosen Option : 3

Q.19 निम्न समीकरण को संतुलित करने के लिए किन दो अंकों को परस्पर बदला जाना चाहिए?

$87 \times 2 - 65 + 182 \div 38 = 155$

- Ans  1. 6 और 2  
 2. 2 और 8  
 3. 8 और 6  
 4. 5 और 7

Question ID : 65497814517  
Chosen Option : 2

Q.20 उस विकल्प का चयन कीजिए जिसका तीसरे शब्द से वही संबंध है जो दूसरे शब्द का पहले शब्द से है।

खलनायक : नायक :: शैतान : ?

- Ans
- 1. सदाचारी
  - 2. फरिश्ता
  - 3. ईश्वर
  - 4. दिव्य

Question ID : 65497814529

Chosen Option : 2

Q.21 स्कूल की सुबह की प्रार्थना में, चंचल सामने से 8वें स्थान पर थी, जबकि प्रिंस उसी पंक्ति में पीछे से 11वें स्थान पर था। यदि वे अपने-अपने स्थान बदल लेते हैं, तो चंचल सामने से 22वें स्थान पर पहुंच जाती है। पंक्ति में विद्यार्थियों की संख्या कितनी है?

- Ans
- 1. 33
  - 2. 30
  - 3. 32
  - 4. 31

Question ID : 65497814533

Chosen Option : 3

Q.22 एक निश्चित कूट भाषा में, यदि GLOWING को GGILNOW लिखा जाता है, तो उसी कूट भाषा में OBVIOUS को क्या लिखा जाएगा?

- Ans
- 1. BOIVUOS
  - 2. IVBOSUO
  - 3. BIOOSUV
  - 4. VUSOOIB

Question ID : 65497814523

Chosen Option : 3

Q.23 निम्न श्रेणी में प्रश्नवाचक चिह्न (?) के स्थान पर कौन सी संख्या आएगी?

128, 116, 126, 118, 124, ?

- Ans
- 1. 118
  - 2. 122
  - 3. 124
  - 4. 120

Question ID : 65497814521

Chosen Option : 4

Q.24 अभय के चाचा, उसके लिए कोंकण से कुछ आम भेजते हैं। यदि वह प्रतिदिन कुछ निश्चित संख्या में आम खाता है, तो वे 60 दिन तक चलते हैं। लेकिन, अभय का चचेरा भाई राजीव उसके साथ छुट्टियां बिताने आता है और दोनों 36 दिन में आम समाप्त कर देते हैं। यदि राजीव अकेले आमों को खाता है, तो आम कितने दिनों तक चलेंगे?

- Ans
- 1. 180
  - 2. 120
  - 3. 72
  - 4. 90

Question ID : 65497814535  
Chosen Option : 4

Q.25 उस विकल्प का चयन कीजिए जो अक्षर-समूह की निम्न श्रृंखला में प्रश्नवाचक चिह्न (?) के स्थान पर आएगा।

VSP, NKH, FCZ, ?

- Ans
- 1. XVS
  - 2. WTQ
  - 3. WUS
  - 4. XUR

Question ID : 65497814530  
Chosen Option : 4

Section : Quantitative Aptitude

Q.1  $1\frac{4}{11} \div \left\{ \left[ \frac{11}{80} \div \frac{3}{4} \left( \frac{1}{4} - \frac{1}{3} \times \frac{1}{5} \right) \div 1\frac{5}{6} \right] + \frac{9}{11} \right\}$  का मान ज्ञात करें।

- Ans
- 1. 1
  - 2. 10
  - 3. 4
  - 4. 5

Question ID : 65497815775  
Chosen Option : --

Q.2 लंबवृत्तीय शंकु के आकार का एक पात्र है, जिसकी त्रिज्या और गहराई बराबर है, यह 2 mm व्यास की 128000 गोलाकार बूंदों से पूरी तरह से भर जाता है। पात्र की त्रिज्या (cm में) ज्ञात करें?

- Ans
- 1. 6
  - 2. 8
  - 3. 2
  - 4. 4

Question ID : 65497817388  
Chosen Option : --



Q.3 एक विक्रेता, एक वस्तु की बिक्री को बढ़ावा देने के लिए, साधारण व्याज के सिद्धांत को लागू करता है। वह घोषणा करता है कि नकद भुगतान करने पर वस्तु के 300 पीस तुरंत प्राप्त किए जा सकते हैं, लेकिन यदि ग्राहक एक साल तक भुगतान रोके रखता है तो उसे वस्तु के केवल 200 पीस मिल सकेंगे। कुल बिक्री पर प्रतिशत व्याज दर की गणना करें?

- Ans
- 1. 50
  - 2. 40
  - 3. 30
  - 4. 25

Question ID : 65497817384  
Chosen Option : 1

Q.4 एक ठोस लंब वृत्तीय बेलन का संपूर्ण पृष्ठीय क्षेत्रफल (total surface area)  $1617 \text{ cm}^2$  है। यदि इसके आधार का व्यास 21 cm है, तो इसका आयतन ( $\text{cm}^3$  में) ज्ञात करें। ( $\pi = \frac{22}{7}$  लें)

- Ans
- 1. 4851
  - 2. 3971
  - 3. 5228
  - 4. 5324

Question ID : 65497817387  
Chosen Option : 1

Q.5 एक संकट के कारण, राज्य A से कुछ लोग राज्य B में चले गए, और इस प्रकार दूसरे राज्य की जनसंख्या में 19.96% की वृद्धि हो गई। हालांकि, बाद में वे सभी राज्य A में वापस लौट आए। तो गणना करें कि राज्य B की जनसंख्या में कितने प्रतिशत की कमी हुई (दशमलव के बाद दो स्थानों तक गणना करें)?

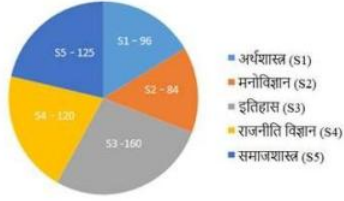
- Ans
- 1. 17.54
  - 2. 16.64
  - 3. 18.24
  - 4. 19.96

Question ID : 65497817377  
Chosen Option : 2

**Q.6** एक कॉलेज में 2012 में सामाजिक विज्ञान के विभिन्न क्षेत्रों में डिग्री कोर्स के प्रथम वर्ष में प्रवेश लेने वाले छात्रों की संख्या इस प्रकार थी: अर्थशास्त्र (S1) - 96, मनोविज्ञान (S2) - 84, इतिहास (S3) - 160, राजनीति विज्ञान (S4) - 120, समाजशास्त्र (S5) - 125। विभिन्न विषयों में छात्रों के वितरण को दिए गए पाई चार्ट के माध्यम से प्रस्तुत किया गया है।

पाई चार्ट का अध्ययन करें और निम्न प्रश्न का उत्तर दें।

2012 में सामाजिक विज्ञान के विभिन्न क्षेत्रों में डिग्री कोर्स के प्रथम वर्ष में प्रवेश लेने वाले छात्रों की संख्या



2013 में, समाजशास्त्र के छात्रों में से 20%, राजनीति विज्ञान के छात्रों में से 25% और अर्थशास्त्र के छात्रों में से 1/6 दूसरे कॉलेज में स्थानांतरित हो गए, और दूसरे कॉलेजों से छात्रों के इस कॉलेज में स्थानांतरित होने के कारण इतिहास के छात्रों की संख्या में 10% की वृद्धि हुई। इसके अतिरिक्त, समाजशास्त्र के शेष छात्रों में से 10% और मनोविज्ञान के शेष छात्रों में से 1/7 छात्र अर्थशास्त्र में स्थानांतरित हो गए। 2013 में वितरण का प्रतिनिधित्व करने वाले पाई चार्ट में इतिहास को निरूपित करने वाले क्षेत्र का केंद्रीय कोण (निकटतम डिग्री में) क्या होगा?

- Ans
- ✓ 1. 120
  - ✗ 2. 102
  - ✗ 3. 126
  - ✗ 4. 112

Question ID : 65497817394

Chosen Option : --

**Q.7**  $\frac{\left(3 + \frac{3}{2} \div 6\frac{1}{2} \times \frac{1}{3}\right) \text{ of } 4\frac{1}{3}}{\left(-\frac{8}{3} \div 2\right)}$  को सरल करें।

- Ans
- ✓ 1. -10
  - ✗ 2. 10
  - ✗ 3.  $\frac{40}{3}$
  - ✗ 4.  $-\frac{30}{13}$

Question ID : 65497817996

Chosen Option : 1

Q.8 दो पुरुष A और B, प्रत्येक दिन में 12 घंटे अकेले काम करके किसी काम को 20 दिनों में पूरा कर सकते हैं। काम को पूरा करने के लिए, यह निर्णय लिया गया कि A और B क्रमशः 8 और 6 घंटे प्रति दिन, एकांतर दिनों में, काम करेंगे जिसकी शुरुआत A से होगी, यदि काम को पूरा करने में  $x$  दिन और  $y$  घंटे लगते हैं तो  $(x, y)$  का मान क्या होगा?

- Ans
- 1. (34, 4)
  - 2. (33, 4)
  - 3. (33, 2)
  - 4. (34, 2)

Question ID : 65497817371  
Chosen Option : 4

Q.9 पृथ्वी अपनी धुरी पर 135 डिग्री के कोण से घूमने में कितना समय (सेकंड में) लगाती है?

- Ans
- 1. 28800
  - 2. 21600
  - 3. 32400
  - 4. 33600

Question ID : 65497817373  
Chosen Option : 3

Q.10 यदि  $x$  और  $y$  विपरीत चिहनों वाली दो संख्याएँ हैं, और  $x^2:y^2 = 16:81$  है, तो  $\frac{3x+4y}{2x-3y}$  का मान क्या होगा?

- Ans
- 1.  $-\frac{27}{40}$
  - 2.  $-\frac{24}{35}$
  - 3.  $\frac{12}{25}$
  - 4.  $\frac{48}{35}$

Question ID : 65497817381  
Chosen Option : 2

Q.11  $\triangle ABC$  में,  $\angle BAC = 90^\circ$ , BC पर A से एक लंब AD खींचा जाता है। BD और BC के बीच मध्यानुपाती निम्नलिखित में से कौन सा होगा?

- Ans
- 1. AD
  - 2. AC
  - 3. AB
  - 4. CD

Question ID : 65497817380  
Chosen Option : 1

Q.12 किसी वस्तु का अंकित मूल्य ₹400 है। एक दुकानदार इसके अंकित मूल्य पर 12% और 20% की दो क्रमागत छूट देकर इसे बेचता है। यदि उसे 10% का लाभ होता है, तो वस्तु का क्रय मूल्य ज्ञात करें।

- Ans
- ✓ 1. ₹256
  - ✗ 2. ₹250
  - ✗ 3. ₹268
  - ✗ 4. ₹260

Question ID : 65497817376  
Chosen Option : 1

Q.13 दो दोस्त, जिनमें से एक दूसरे से तीन गुना अधिक कुशल कामगार है, एक साथ काम करते हुए, 6 दिनों में एक काम पूरा कर सकते हैं। दोनों में से कम कुशलता वाला दोस्त, इस काम से दोगुने काम को कितने दिनों में पूरा कर पाएगा?

- Ans
- ✗ 1. 24
  - ✓ 2. 48
  - ✗ 3. 12
  - ✗ 4. 36

Question ID : 65497817370  
Chosen Option : 2

Q.14 दो पात्रों में दूध और पानी के मिश्रण क्रमशः 3 : 2 और 6 : 5 के अनुपात में भरे हैं। इन मिश्रणों को किस अनुपात में मिलाया जाना चाहिए ताकि अंतिम मिश्रण में दूध और पानी का अनुपात 4 : 3 हो जाए?

- Ans
- ✗ 1. 5 : 8
  - ✗ 2. 6 : 13
  - ✓ 3. 10 : 11
  - ✗ 4. 9 : 14

Question ID : 65497817382  
Chosen Option : 3

Q.15 एक फल विक्रेता एक बाजार में 1092 सेब और 3432 संतरे लाता है। वह उन्हें संतरे के ढेरों और सेब के ढेरों में इस प्रकार से व्यवस्थित करता है कि हर ढेर में फलों की संख्या अधिकतम हो। यह संख्या ज्ञात करें?

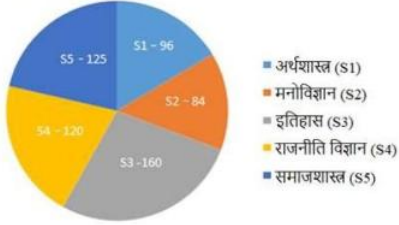
- Ans
- ✗ 1. 312
  - ✗ 2. 39
  - ✓ 3. 156
  - ✗ 4. 78

Question ID : 65497817389  
Chosen Option : 2

Q.16 एक कॉलेज में 2012 में सामाजिक विज्ञान के विभिन्न क्षेत्रों में डिग्री कोर्स के प्रथम वर्ष में प्रवेश लेने वाले छात्रों की संख्या इस प्रकार थी: अर्थशास्त्र (S1) - 96, मनोविज्ञान (S2) - 84, इतिहास (S3) - 160, राजनीति विज्ञान (S4) - 120, समाजशास्त्र (S5) - 125। विभिन्न विषयों में छात्रों के वितरण को दिए गए पाई चार्ट के माध्यम से प्रस्तुत किया गया है।

पाई चार्ट का अध्ययन करें और निम्न प्रश्न का उत्तर दें।

2012 में सामाजिक विज्ञान के विभिन्न क्षेत्रों में डिग्री कोर्स के प्रथम वर्ष में प्रवेश लेने वाले छात्रों की संख्या



अर्थशास्त्र और मनोविज्ञान में छात्रों की कुल संख्या इतिहास, राजनीति विज्ञान और समाजशास्त्र में छात्रों की कुल संख्या की कितने प्रतिशत है (दशमलव के बाद दो स्थानों तक गणना करें)?

- Ans
- 1. 46.48
  - 2. 22.28
  - 3. 44.44
  - 4. 33.33

Question ID : 65497817393  
Chosen Option : 3

Q.17 निम्न वितरण की माध्यिका क्या होगी?

34, 22, 13, 11, 27, 19, 25, 16

- Ans
- 1. 22
  - 2. 21.5
  - 3. 20.5
  - 4. 19

Question ID : 65497817385  
Chosen Option : 3

Q.18 यदि मैं किसी वस्तु को ₹1,232 में बेचता हूँ और इस सौदे में 124% का लाभ प्राप्त करता हूँ, तो इसे ₹572 में बेचने पर मेरे लाभ या हानि प्रतिशत की गणना करें?

- Ans
- 1. 6% हानि
  - 2. 4% हानि
  - 3. 6% लाभ
  - 4. 4% लाभ

Question ID : 65497817378  
Chosen Option : 4

Q.19 एक वर्ग का क्षेत्रफल S है, और दिए गए वर्ग के मध्य-बिंदुओं को जोड़कर बनने वाले वर्ग का क्षेत्रफल A है।  $\frac{A}{S}$  का मान निम्न में से किसके बराबर होगा?

- Ans
- 1. 1.25
  - 2. 0.125
  - 3. 0.25
  - 4. 0.5

Question ID : 65497817386  
Chosen Option : 3

Q.20 ₹6,400 की राशि का वार्षिक चक्रवृद्धि ब्याज के आधार पर निवेश किया गया और यह राशि दो वर्षों में ₹7,056 हो गई। ब्याज की प्रतिशत दर कितनी थी?

- Ans
- 1. 6.25
  - 2. 4
  - 3. 7.5
  - 4. 5

Question ID : 65497817383  
Chosen Option : 4

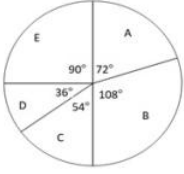
Q.21 5 से शुरू करके दस क्रमिक विषम संख्याएं लें। पहली और दूसरी संख्या के अतिरिक्त शेष संख्याओं को तीन से गुणा करें। इस प्रकार से बनने वाली दस संख्याओं का औसत क्या होगा?

- Ans
- 1. 39
  - 2. 42
  - 3. 39.6
  - 4. 38.4

Question ID : 65497817374  
Chosen Option : 3

Q.22 निम्नांकित पाई चार्ट का अध्ययन करें, तथा उसके बाद पूछे गए प्रश्न का उत्तर दें।

पाई चार्ट में उन खिलाड़ियों का बंटन (distribution) (डिग्री-वार) दर्शाया गया है, जो पांच खेल A, B, C, D, और E खेलते हैं (यह मानते हुए कि प्रत्येक खिलाड़ी केवल एक ही खेल खेलता है)।



यदि खेल C खेलने वाले खिलाड़ियों की संख्या 162 है, तो खेल A और खेल E खेलने वाले खिलाड़ियों की कुल संख्या के बीच कितना अंतर है?

- Ans
- ✓ 1. 54
  - ✗ 2. 36
  - ✗ 3. 90
  - ✗ 4. 72

Question ID : 65497817392  
Chosen Option : 1

Q.23 एक वस्तु के निर्माण की लागत ₹24,000 थी, और इसकी पैकेजिंग और एक खुदरा विक्रेता को इसकी शिपमेंट पर इसका 20% खर्च किया गया था। निर्माता ने 50% का लाभ कमाया, जबकि खुदरा विक्रेता ने 20% की हानि पर इसे ग्राहक को बेचा। खुदरा विक्रेता ने यह वस्तु किस मूल्य में (₹ में) बेची थी?

- Ans
- ✓ 1. 34,560
  - ✗ 2. 32,400
  - ✗ 3. 37,664
  - ✗ 4. 35,268

Question ID : 65497817379  
Chosen Option : --

Q.24 एक तूफान के दौरान हवा की गति  $10^5$  mm प्रति सेकंड है। हवा में निलंबित धूल के एक कण को 1 km की यात्रा करने में कितना समय (सेकंड में) लगेगा?

- Ans
- ✓ 1. 10
  - ✗ 2. 0.1
  - ✗ 3. 0.01
  - ✗ 4. 1

Question ID : 65497817372  
Chosen Option : 3

**Q.25** एक खुदरा विक्रेता सप्ताह के सभी सात दिनों में अपना आउटलेट खोलता है। यह देखा गया है कि शनिवार और रविवार के दिनों के लिए उसकी कुल औसत बिक्री ₹300 होती है, और शेष पाँच दिनों के लिए कुल बिक्री का औसत ₹200 है। शनिवार से शुरू होने वाले एक महीने में, यह पाया गया कि कुल बिक्री ₹7,000 थी। वह महीना निम्नलिखित में से कौन सा हो सकता है?

- Ans**
- 1. फरवरी
  - 2. अप्रैल
  - 3. मार्च
  - 4. जनवरी

Question ID : 65497817375  
Chosen Option : 1

Section : General Awareness

**Q.1** निम्नलिखित में से कौन सा कथन गलत है?

- Ans**
- 1. धातुओं का गलनांक उच्च होता है।
  - 2. धातुएँ ऊष्मा की सुचालक होती हैं।
  - 3. सीसा और पारा ऊष्मा के सर्वश्रेष्ठ सुचालक हैं।
  - 4. शुद्ध धातुओं की सतह चमकती है।

Question ID : 65497816806  
Chosen Option : 4

**Q.2** संयुक्त राष्ट्र विकास कार्यक्रम (यूएनडीपी) द्वारा जारी मानव विकास सूचकांक-2019 में भारत का स्थान क्या था?

- Ans**
- 1. 112
  - 2. 141
  - 3. 132
  - 4. 129

Question ID : 65497817706  
Chosen Option : 2

**Q.3** कंपनी अधिनियम, 2013 के अनुसार, किसी कंपनी द्वारा घोषित लाभांश यदि घोषणा की तारीख से \_\_\_\_\_ दिनों के भीतर भुगतान या दावा नहीं किया गया है, उसे अप्रदत्त लाभांश खाते में अंतरित करना होता है।

- Ans**
- 1. 30
  - 2. 90
  - 3. 120
  - 4. 60

Question ID : 65497816801  
Chosen Option : --



Q.4 माता-पिता और वरिष्ठ नागरिकों के भरण-पोषण और कल्याण विधेयक, 2007 द्वारा निर्धारित बच्चों की ओर से माता-पिता को देय ₹ \_\_\_\_\_ की मासिक भरण-पोषण राशि को, माता-पिता और वरिष्ठ नागरिकों का भरण-पोषण तथा कल्याण (संशोधन) विधेयक, 2019 द्वारा हटा दिया गया।

- Ans  1. 8,000  
 2. 10,000  
 3. 12,000  
 4. 5,000

Question ID : 65497816800  
Chosen Option : --

Q.5 अंग्रेजों ने 'नवाब के कुशासन' के बहाने निम्नलिखित में से किस रियासत पर कब्जा कर लिया था?

- Ans  1. अवध  
 2. उदयपुर  
 3. नागपुर  
 4. सतारा

Question ID : 65497816813  
Chosen Option : --

Q.6 सूर्य के प्रकाश में कितने रंग निहित हैं?

- Ans  1. दो  
 2. तीन  
 3. सात  
 4. पाँच

Question ID : 65497816804  
Chosen Option : 3

Q.7 निम्नलिखित में से कौन सी अवधारणाएं बताती हैं कि सतत विकास को प्रगति की धारणाओं के लिए एक समग्र दृष्टिकोण रखना चाहिए और कल्याण के गैर-आर्थिक पहलुओं को समान महत्व देना चाहिए?

- Ans  1. सकल घरेलू उत्पाद (Gross Domestic Product)  
 2. सकल राष्ट्रीय खुशहाली (Gross National Happiness)  
 3. सकल राष्ट्रीय उत्पाद (Gross National Product)  
 4. शुद्ध राष्ट्रीय उत्पाद (Net National Product)

Question ID : 65497815485  
Chosen Option : 1

Q.8 निम्नलिखित में से कौन सी पुस्तक, 1817 में स्कॉटिश अर्थशास्त्री जेम्स मिल द्वारा लिखी गई थी?

- Ans  1. ए पैसेज टू इंडिया (A Passage to India)  
 2. पावर्टी एंड अन-ब्रिटिश रूल इन इंडिया (Poverty and Un-British Rule in India)  
 3. द हिस्ट्री ऑफ ब्रिटिश इन इंडिया (The History of British in India)  
 4. द ग्रेट म्यूटिनी (The Great Mutiny)

Question ID : 65497816811  
Chosen Option : 3

Q.9 निम्नलिखित में से कौन एक पेशेवर फुटबॉल खिलाड़ी है?

- Ans  1. पीटर स्विडलर  
 2. सादियो माने  
 3. बोरिस गेलफैंड  
 4. मैग्नस कार्लसन

Question ID : 65497816792  
Chosen Option : 4

Q.10 स्वदेशी आंदोलन से प्रेरित होकर, \_\_\_\_\_ ने भारत माता की अपनी प्रसिद्ध छवि को चित्रित किया, जिसमें उन्हें एक तपस्विनी आकृति के रूप में चित्रित किया गया है।

- Ans  1. अबनिंद्रनाथ टैगोर  
 2. ज्योतिंद्रनाथ टैगोर  
 3. द्विजेंद्रनाथ टैगोर  
 4. सत्येंद्रनाथ टैगोर

Question ID : 65497816795  
Chosen Option : 1

Q.11 निम्नलिखित में से कौन सी बर्फ-पोषित (snow fed) नदी है?

- Ans  1. कावेरी  
 2. गोदावरी  
 3. नर्मदा  
 4. यमुना

Question ID : 65497816809  
Chosen Option : 1

Q.12 वर्ष 1878 में, ब्रिटिश भारत में निम्नलिखित में से कौन सा एक्ट अधिनियमित किया गया था?

- Ans  1. भारतीय संविदा अधिनियम (Indian Contract Act)  
 2. ईस्ट इंडिया शेयर लाभांश प्रतिदान अधिनियम (East India Stock Dividend Redemption Act)  
 3. देशी प्रेस अधिनियम (Vernacular Press Act)  
 4. संपत्ति अंतरण अधिनियम (Transfer of Property Act)

Question ID : 65497816802  
Chosen Option : --

Q.13 हाफिज़ (हाफेज़) \_\_\_\_\_ सदी के कवि थे, जिनके कविता संग्रह को 'दीवान' या 'दीवान-ए-हाफिज़' के नाम से जाना जाता है।

- Ans  1. 15वीं  
 2. 17वीं  
 3. 14वीं  
 4. 16वीं

Question ID : 65497816796  
Chosen Option : --

Q.14 निम्नलिखित में से कौन सा एक प्राकृतिक अम्ल क्षारक संकेतक नहीं है?

- Ans
- 1. पेटुनिया के फूल
  - 2. लाल गोभी के पत्ते
  - 3. ज़ीरिनियम के फूल
  - 4. अजवायन के पत्ते

Question ID : 65497816807  
Chosen Option : --

Q.15 1859 में कोलकाता में पहली जूट मिल कहाँ लगाई गई थी?

- Ans
- 1. रसड़ा
  - 2. मेसरा
  - 3. श्रीरामपुर
  - 4. हावड़ा

Question ID : 65497816808  
Chosen Option : --

Q.16 वह भारतीय क्रिकेट खिलाड़ी कौन सा है जिसने टेस्ट ओपनर के रूप में अपने पदार्पण मैच में लगातार दो शतक लगाए?

- Ans
- 1. रोहित शर्मा
  - 2. शिखर धवन
  - 3. विराट कोहली
  - 4. एम.एस. धोनी

Question ID : 65497816793  
Chosen Option : 1

Q.17 जिंक + सल्फ्यूरिक अम्ल → जिंक सल्फेट + \_\_\_\_\_

- Ans
- 1. क्लोरीन
  - 2. कार्बन
  - 3. नाइट्रोजन
  - 4. हाइड्रोजन

Question ID : 65497816805  
Chosen Option : 4

Q.18 निम्नलिखित में से कौन सी पुस्तक राजेंद्र प्रसाद द्वारा लिखी गई है?

- Ans
- 1. द डिस्कवरी ऑफ इंडिया (The Discovery of India)
  - 2. एन ऑटोबायोग्राफी: टुवर्ड्स फ्रीडम (An Autobiography: Towards Freedom)
  - 3. इंडिया डिवाइडेड (India Divided)
  - 4. ग्लिम्पसेस ऑफ वर्ल्ड हिस्ट्री (Glimpses of World History)

Question ID : 65497816794  
Chosen Option : 3

Q.19 कूर्ग का कोडव समुदाय, \_\_\_\_\_ त्यौहार के दौरान हथियारों की पूजा करता है।

- Ans
- 1. थाईपुसम
  - 2. भगोरिया
  - 3. कैलपोध
  - 4. मड़ई

Question ID : 65497816791  
Chosen Option : 3

Q.20 पश्चिम बंगाल में बक्सा बाघ संरक्षित क्षेत्र को वर्तमान में चल रहे \_\_\_\_\_ से खतरा है।

- Ans
- 1. हेमटाइट खनन
  - 2. मैग्नेटाइट खनन
  - 3. डोलोमाइट खनन
  - 4. तांबा (कॉपर) खनन

Question ID : 65497816810  
Chosen Option : --

Q.21 निम्नलिखित में से कौन सी बीमारी प्रदूषित पानी पीने के कारण नहीं होती है?

- Ans
- 1. टाइफाइड
  - 2. मैनिजाइटिस
  - 3. कालरा
  - 4. रेबीज

Question ID : 65497816803  
Chosen Option : 4

Q.22 कामाख्या मंदिर \_\_\_\_\_ में स्थित है।

- Ans
- 1. अगरतला
  - 2. गुवाहाटी
  - 3. इंफाल
  - 4. कोहिमा

Question ID : 65497816790  
Chosen Option : 2

Q.23 भारतीय रिजर्व बैंक के बारे में निम्नलिखित में से कौन सा कथन गलत है?

- Ans
- 1. भारतीय रिजर्व बैंक अधिनियम वर्ष 1934 में अधिनियमित किया गया था।
  - 2. 1929 में, हिल्टन यंग कमीशन ने एक केंद्रीय बैंक की स्थापना की संस्तुति की जिसे 'भारतीय रिजर्व बैंक' कहा जाता है।
  - 3. 1931 में भारतीय केंद्रीय बैंकिंग जाँच समिति ने भारत के लिए केंद्रीय बैंक जैसे भारतीय रिजर्व बैंक की स्थापना के मुद्दे को भारतीय केंद्रीय बैंक (सेंट्रल बैंक ऑफ इंडिया) के रूप में पुनर्जीवित किया।
  - 4. भारतीय रिजर्व बैंक ने 1935 में परिचालन शुरू किया था।

Question ID : 65497816799  
Chosen Option : 3

Q.24 \_\_\_\_\_, अरुणाचल प्रदेश की गालो जनजाति का एक ऐसा त्योहार है, जिसे प्रतिवर्ष अप्रैल में मनाया जाता है।

- Ans
- 1. मे दम मे फी
  - 2. डोलजात्रा
  - 3. आलि आई लिगांग
  - 4. मोपिन

Question ID : 65497816789  
Chosen Option : 3

Q.25 प्लासी के युद्ध के बाद बंगाल का नवाब \_\_\_\_\_ को बनाया गया।

- Ans
- 1. अलीवर्दी खान
  - 2. मीर कासिम
  - 3. सिराजुद्दौला
  - 4. मीर ज़ाफर

Question ID : 65497816812  
Chosen Option : 3

## Multi Tasking Non Technical Staff Examination 2020

Participant ID	www.exammix.com
Participant Name	
Test Center Name	
Test Date	05/10/2021
Test Time :	12:30 PM - 2:00 PM
Subject	MTS Non Technical 2020

Section : **General English**

**Q.1 Select the MISSPELT word.**

- Ans  1. Embroidary  
 2. Interrogation  
 3. Territory  
 4. Fascination

Question ID : **65497814514**

Chosen Option : 1

**Q.2 Select the most appropriate meaning of the given idiom.**

**Keep someone in the loop**

- Ans  1. Take good care of them  
 2. Make them do exercises regularly  
 3. Save all their numbers  
 4. Give them all the information

Question ID : **65497814509**

Chosen Option : 1

**Q.3 Identify the segment in the sentence that contains a grammatical error.**

**If there had not been such a long queue I could have returned back by 11 am.**

- Ans  1. If there had not been  
 2. such a long queue  
 3. by 11 am  
 4. I could have returned back

Question ID : **65497814492**

Chosen Option : 4

Q.4 Select the most appropriate synonym of the given word.

TENSILE

- Ans  1. Anxious  
 2. Worried  
 3. Stretchable  
 4. Relaxed

Question ID : 65497814508  
Chosen Option : 3

Q.5 Select the most appropriate ANTONYM of the given word.

SLEEK

- Ans  1. Flat  
 2. Easy  
 3. Dull  
 4. Smooth

Question ID : 65497814505  
Chosen Option : 3

Q.6 Select the most appropriate option to substitute the underlined segment in the given sentence. If there is no need to substitute it, select 'No substitution required'.

The languages he can speak are English, Hindi, Marathi and Kannada.

- Ans  1. is speaking are  
 2. No substitution required  
 3. can speak is  
 4. will speak are

Question ID : 65497814302  
Chosen Option : 1

Q.7 Identify the segment in the sentence that contains a grammatical error.

I ordered an online gift for my friend at her birthday.

- Ans  1. for my friend  
 2. I ordered  
 3. at her birthday  
 4. an online gift

Question ID : 65497814491  
Chosen Option : 3

**Q.8** Select the most appropriate option to fill in the blank.

Aparna said she was sorry she had \_\_\_\_\_ to bring the book I had asked for.

- Ans  1. forgotten  
 2. forgets  
 3. forget  
 4. forgot

Question ID : 65497814494  
Chosen Option : 1

**Q.9** Select the MISSPELT word.

- Ans  1. Clothes  
 2. Trousers  
 3. Germent  
 4. Ironing

Question ID : 65497814513  
Chosen Option : 3

**Q.10** Select the most appropriate ANTONYM of the given word.

**ZEALOUS**

- Ans  1. Indifferent  
 2. Eager  
 3. Anxious  
 4. Annoyed

Question ID : 65497814506  
Chosen Option : 3

**Q.11** Select the most appropriate option to fill in the blank.

This is the ground which is \_\_\_\_\_ to be the highest cricket ground in the world.

- Ans  1. considered  
 2. covered  
 3. concealed  
 4. cleared

Question ID : 65497814515  
Chosen Option : 1



**Q.12** Select the most appropriate option to substitute the underlined segment. If no substitution is required, select 'No substitution required'.

Once Birbal was forbidden for attending the king's free lunch.

- Ans
- 1. No substitution required
  - 2. in attending
  - 3. from attending
  - 4. to be attending

Question ID : 65497816523  
Chosen Option : 2

**Q.13** Select the most appropriate one-word substitution for the given words.

A person who compiles dictionaries

- Ans
- 1. Cartographer
  - 2. Cryptographer
  - 3. Calligrapher
  - 4. Lexicographer

Question ID : 65497814512  
Chosen Option : 4

**Q.14** Select the most appropriate synonym of the given word.

LAX

- Ans
- 1. Deprived
  - 2. Careful
  - 3. Negligent
  - 4. Needy

Question ID : 65497814507  
Chosen Option : 3

**Q.15** Select the most appropriate one-word substitution for the given words.

Cinema show in the afternoon

- Ans
- 1. Screening
  - 2. Movie
  - 3. Film
  - 4. Matinee

Question ID : 65497814511  
Chosen Option : 4

Q.16 Select the most appropriate option to fill in the blank.

We would be grateful if you \_\_\_\_\_ let us know what medicine we should take for this ailment.

- Ans
- 1. may
  - 2. should
  - 3. could
  - 4. shall

Question ID : 65497814495  
Chosen Option : 2

Q.17 Select the most appropriate option to fill in the blank.

Several peoples' homes were badly \_\_\_\_\_ during the floods.

- Ans
- 1. drained
  - 2. damaged
  - 3. deluged
  - 4. drowned

Question ID : 65497814516  
Chosen Option : 2

Q.18 Select the most appropriate meaning of the given idiom.

Of the old school

- Ans
- 1. Old dilapidated building
  - 2. Old fashioned in thought
  - 3. School one attended long ago
  - 4. School in an old age home

Question ID : 65497814510  
Chosen Option : 2

Q.19 Identify the segment in the sentence that contains a grammatical error.

Will you listen me when I tell you the details?

- Ans
- 1. Will you
  - 2. the details
  - 3. when I tell you
  - 4. listen me

Question ID : 65497814493  
Chosen Option : 1

**Q.20** Select the most appropriate option to substitute the underlined segment in the given sentence. If there is no need to substitute it, select 'No substitution required'.

The club are organising a two-day yoga and meditation camp for beginners.

- Ans
- 1. will organised
  - 2. can be organising
  - 3. No substitution required
  - 4. is organising

Question ID : 65497814502  
Chosen Option : 4

**Comprehension:**

In the following passage, some words have been deleted. Fill in the blanks with the help of the alternatives given. Select the most appropriate option for each blank.

A poet visited Tenali Raman hoping to impress him with some poems he had written. Raman asked (1)\_\_\_\_\_ to leave the poems with him and promised to read them (2)\_\_\_\_\_. The man, however, insisted on (3)\_\_\_\_\_ out the poems to him. As the poet droned (4)\_\_\_\_\_, Raman fell asleep. When he woke up, the poet asked: "Sir, shall I read the (5)\_\_\_\_\_ again?"

**SubQuestion No : 21**

**Q.21** Select the most appropriate option to fill in blank no. 1.

- Ans
- 1. his
  - 2. him
  - 3. her
  - 4. them

Question ID : 65497814497  
Chosen Option : 2

**Comprehension:**

In the following passage, some words have been deleted. Fill in the blanks with the help of the alternatives given. Select the most appropriate option for each blank.

A poet visited Tenali Raman hoping to impress him with some poems he had written. Raman asked (1)\_\_\_\_\_ to leave the poems with him and promised to read them (2)\_\_\_\_\_. The man, however, insisted on (3)\_\_\_\_\_ out the poems to him. As the poet droned (4)\_\_\_\_\_, Raman fell asleep. When he woke up, the poet asked: "Sir, shall I read the (5)\_\_\_\_\_ again?"

**SubQuestion No : 22**

**Q.22** Select the most appropriate option to fill in blank no. 2.

- Ans
- 1. later
  - 2. next
  - 3. lately
  - 4. after

Question ID : 65497814498  
Chosen Option : 1

**Comprehension:**

In the following passage, some words have been deleted. Fill in the blanks with the help of the alternatives given. Select the most appropriate option for each blank.

A poet visited Tenali Raman hoping to impress him with some poems he had written. Raman asked (1)\_\_\_\_\_ to leave the poems with him and promised to read them (2)\_\_\_\_\_. The man, however, insisted on (3)\_\_\_\_\_ out the poems to him. As the poet droned (4)\_\_\_\_\_ Raman fell asleep. When he woke up, the poet asked: "Sir, shall I read the (5)\_\_\_\_\_ again?"

**SubQuestion No : 23**

**Q.23 Select the most appropriate option to fill in blank no. 3.**

- Ans
- 1. reciting
  - 2. recounting
  - 3. rehearsing
  - 4. reading

Question ID : 65497814499  
Chosen Option : 4

**Comprehension:**

In the following passage, some words have been deleted. Fill in the blanks with the help of the alternatives given. Select the most appropriate option for each blank.

A poet visited Tenali Raman hoping to impress him with some poems he had written. Raman asked (1)\_\_\_\_\_ to leave the poems with him and promised to read them (2)\_\_\_\_\_. The man, however, insisted on (3)\_\_\_\_\_ out the poems to him. As the poet droned (4)\_\_\_\_\_ Raman fell asleep. When he woke up, the poet asked: "Sir, shall I read the (5)\_\_\_\_\_ again?"

**SubQuestion No : 24**

**Q.24 Select the most appropriate option to fill in blank no. 4.**

- Ans
- 1. on
  - 2. out
  - 3. in
  - 4. up

Question ID : 65497814500  
Chosen Option : 2

**Comprehension:**

In the following passage, some words have been deleted. Fill in the blanks with the help of the alternatives given. Select the most appropriate option for each blank.

A poet visited Tenali Raman hoping to impress him with some poems he had written. Raman asked (1)\_\_\_\_\_ to leave the poems with him and promised to read them (2)\_\_\_\_\_. The man, however, insisted on (3)\_\_\_\_\_ out the poems to him. As the poet droned (4)\_\_\_\_\_ Raman fell asleep. When he woke up, the poet asked: "Sir, shall I read the (5)\_\_\_\_\_ again?"

**SubQuestion No : 25**

**Q.25 Select the most appropriate option to fill in blank no. 5.**

- Ans
- 1. verses
  - 2. pages
  - 3. poems
  - 4. rhymes

Question ID : 65497814501  
Chosen Option : 3

Section : General Intelligence and Reasoning

Q.1 उस सही विकल्प का चयन करें, जो किसी पुस्तक की निम्न सामग्री के तार्किक और सार्थक क्रम को निरूपित करता है।

1. प्रस्तावना
2. विषय-सूची
3. अध्याय
4. ग्रंथ-सूची
5. आवरण पृष्ठ

Ans  1. 1, 5, 2, 3, 4  
 2. 5, 1, 2, 3, 4  
 3. 2, 1, 5, 3, 4  
 4. 1, 2, 5, 3, 4

Question ID : 65497817363  
Chosen Option : 4

Q.2 चार अक्षर-समूह दिए गए हैं, जिनमें से तीन किसी प्रकार समान हैं जबकि एक असंगत है। उस असंगत अक्षर-समूह का चयन करें।

Ans  1. ADI  
 2. EHM  
 3. FJN  
 4. DGL

Question ID : 65497817358  
Chosen Option : 3

Q.3 Two statements are given followed by two conclusions numbered I and II. Assuming that the information given in the statements is true, even if it appears to be different from commonly known facts, decide which of the conclusions logically follow(s) from the statements.

Statements:

1. Some bags are covers.
2. All sheets are covers.

Conclusions:

- I. All covers are sheets.
- II. Some bags are sheets.

Ans  1. Neither conclusion I nor II follows.  
 2. Both conclusions I and II follow  
 3. Only conclusion I follows  
 4. Only conclusion II follows

Question ID : 65497817359  
Chosen Option : 1

Q.4 यदि निम्न गणितीय चिह्नों को निम्नानुसार प्रतिस्थापित किया जाता है, तो उस विकल्प का चयन करें, जो सही समीकरण को निरूपित करता है।

- ÷ को + में बदला गया है
- × को - में बदला गया है
- + को - में बदला गया है
- को ÷ में बदला गया है

- Ans
- 1.  $26 \times 18 \div 39 + 4 - 111 = 100$
  - 2.  $26 + 18 - 39 \times 4 \div 111 = 119$
  - 3.  $26 - 18 + 39 \div 4 \times 111 = 40$
  - 4.  $26 - 18 + 39 \times 4 \div 111 = 203$

Question ID : 65497817346  
Chosen Option : --

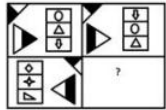
Q.5 Select the option which is related to third term in the same way as the second term is related to the first term.

Focus : Distract : : Precise : ?

- Ans
- 1. Careless
  - 2. Insufficient
  - 3. Specific
  - 4. Strict

Question ID : 65497817356  
Chosen Option : 1

Q.6 नीचे एक पैटर्न दिया गया है, जिसमें से एक खंड काटा गया है। उस विकल्प का चयन करें, जो पैटर्न में सही ढंग से रखे जाने पर पैटर्न को पूरा करेगा।



- Ans
- 1.
  - 2.
  - 3.
  - 4.

Question ID : 65497817365  
Chosen Option : 2

Q.7 उस आकृति का चयन करें, जो निम्न श्रेणी में अगले स्थान पर आएगी।



Ans



Question ID : 65497817364  
Chosen Option : 1

Q.8 किसी निश्चित कूट भाषा में, EXCEL को 44 और WORD को 56 लिखा जाता है। उसी कूट भाषा में HEAVEN को किस प्रकार लिखा जाएगा?

- Ans
- ✗ 1. 61
  - ✗ 2. 58
  - ✗ 3. 55
  - ✓ 4. 49

Question ID : 65497817353  
Chosen Option : 4

Q.9 किसी निश्चित कूट भाषा में, SEAT को TIJJ लिखा जाता है। उसी कूट भाषा में, TREE को किस प्रकार लिखा जाएगा?

- Ans
- ✓ 1. UVNU
  - ✗ 2. VUNU
  - ✗ 3. SVNN
  - ✗ 4. UVNV

Question ID : 65497817352  
Chosen Option : 1

Q.10 आठ दोस्त P, Q, R, S, T, U, V और W एक आयताकार मेज के चारों ओर बैठे हैं। R उत्तर-पश्चिम में बैठा है। R और P विकर्णतः एक दूसरे के सम्मुख बैठे हैं, जबकि V और U विकर्णतः एक दूसरे के सम्मुख बैठे हैं। W पश्चिम दिशा की ओर अभिमुख है, Q पूर्व दिशा की ओर अभिमुख है, और S ठीक R तथा V के बीच बैठा है। T किस दिशा में बैठा है?

- Ans  1. पश्चिम  
 2. दक्षिण  
 3. पूर्व  
 4. उत्तर

Question ID : 65497817362  
Chosen Option : 2

Q.11 उस विकल्प का चयन करें, जो तीसरे पद से ठीक उसी प्रकार संबंधित है, जिस प्रकार दूसरा पद पहले पद से संबंधित है।

BOARD : VSELX :: ENJOY : ?

- Ans  1. IHDSC  
 2. HICSD  
 3. FEDSE  
 4. IHEAC

Question ID : 65497817355  
Chosen Option : 4

Q.12 किसी निश्चित कूट भाषा में, JET को TED और MAD को WAN लिखा जाता है। उसी कूट भाषा में, CARE को किस प्रकार लिखा जाएगा?

- Ans  1. LKBE  
 2. MADE  
 3. MALE  
 4. MABE

Question ID : 65497817351  
Chosen Option : 4

Q.13 यदि A का अर्थ 'घटाना' है, B का अर्थ 'जोड़' है, C का अर्थ 'गुणा' है और D का अर्थ 'भाग' है, तो निम्न समीकरण का मान ज्ञात करें।

96 D 12 A 6 B 3 C 5

- Ans  1. 7  
 2. 17  
 3. 128  
 4. 1158

Question ID : 65497817345  
Chosen Option : 2



Q.14 उस विकल्प का चयन करें, जो तीसरे शब्द से ठीक उसी प्रकार संबंधित है, जिस प्रकार दूसरा शब्द पहले शब्द से संबंधित है।

लघु : विशालकाय :: कण : ?

- Ans
- 1. अवपरमाणुक
  - 2. धूल
  - 3. संपूर्ण
  - 4. विमुखता

Question ID : 65497817357  
Chosen Option : 3

Q.15 उस संख्या का चयन करें, जो निम्न पैटर्न में प्रश्नवाचक चिह्न (?) के स्थान पर आएगी?

5 6 7 8 9  
115 206 ? 502 719

- Ans
- 1. 337
  - 2. 347
  - 3. 343
  - 4. 333

Question ID : 65497817350  
Chosen Option : 4

Q.16 किसी निश्चित कूट भाषा में, C को 3 के रूप में और DAM को 6 के रूप में कूटबद्ध किया जाता है। उसी कूट भाषा में, HENCE को किस रूप में कूटबद्ध किया जाएगा?

- Ans
- 1. 5
  - 2. 11
  - 3. 12
  - 4. 7

Question ID : 65497817354  
Chosen Option : 4

Q.17 यदि दर्पण को दी गई आकृति के दाईं ओर रखा जाए, तो आकृति के दर्पण में निर्मित सही प्रतिबिंब का चयन कीजिए।

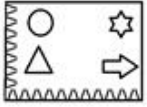


Ans

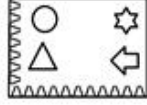
✗ 1.



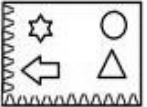
✗ 2.



✓ 3.



✗ 4.



Question ID : 65497817367  
Chosen Option : 3

Q.18 आठ छात्र A, B, C, D, E, F, G और H एक गोल मेज के परितः एक दूसरे से बराबर दूरी पर बैठे हैं। यदि B उत्तर-पूर्व दिशा में बैठा है तो H किस दिशा में बैठा है?

Ans ✗ 1. उत्तर-पूर्व

✗ 2. उत्तर-पश्चिम

✓ 3. दक्षिण-पूर्व

✗ 4. दक्षिण-पश्चिम

Question ID : 65497817361  
Chosen Option : 2

Q.19 उस विकल्प का चयन करें, जो चौथी संख्या से ठीक उसी प्रकार संबंधित है, जिस प्रकार पहली संख्या दूसरी संख्या से संबंधित है।

28 : 145 :: ? : 100

Ans ✗ 1. 20

✗ 2. 13

✓ 3. 19

✗ 4. 17

Question ID : 65497817347  
Chosen Option : 3

Q.20 तीन कथनों के बाद तीन निष्कर्ष I, II और III दिए गए हैं। यह मानते हुए कि कथनों में दी गई जानकारी सत्य है, भले ही ये सामान्य रूप से ज्ञात तथ्यों से भिन्न प्रतीत होते हों, निर्धारित करें कि कौन से निष्कर्ष कथनों का तार्किक रूप से अनुसरण करते हैं?

कथन:

1. कोई भी जंगल, पेड़ नहीं है।
2. कुछ पेड़, लंबे हैं।
3. कोई भी पौधा, लंबा नहीं है।

निष्कर्ष:

- I. कुछ पौधे, पेड़ हैं।
- II. सभी पेड़, लंबे हैं।
- III. कुछ जंगल, लंबे हैं।

- Ans  1. कोई भी निष्कर्ष अनुसरण नहीं करता है।  
 2. निष्कर्ष I और II दोनों अनुसरण करते हैं।  
 3. केवल निष्कर्ष II अनुसरण करता है।  
 4. निष्कर्ष II और III दोनों अनुसरण करते हैं।

Question ID : 65497817360  
Chosen Option : 1

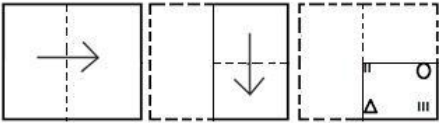
Q.21 उस संख्या का चयन करें, जो निम्न श्रेणी में प्रश्नवाचक चिह्न (?) के स्थान पर आएगी?

117, 98, 80, ?, 47, 32

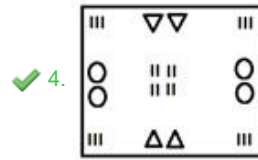
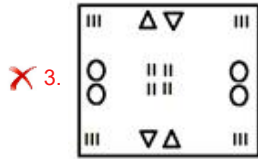
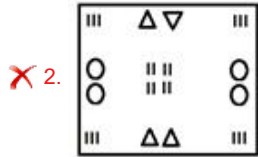
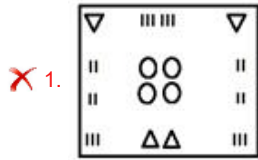
- Ans  1. 63  
 2. 75  
 3. 58  
 4. 55

Question ID : 65497817349  
Chosen Option : 1

Q.22 एक कागज़ को निम्नानुसार मोड़ा और काटा जाता है। यह खोलने पर कैसा दिखेगा?



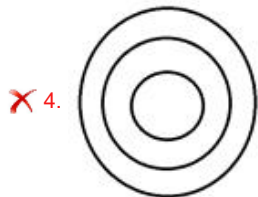
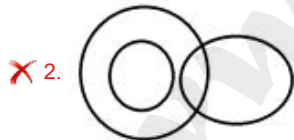
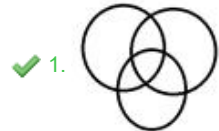
Ans



Question ID : 65497817368  
Chosen Option : 4

Q.23 उस वेन-आरेख का चयन करें, जो निम्न वर्गों के बीच संबंध को सर्वोत्तम ढंग से निरूपित करता है।  
पुरुष, स्केटर, भूरे-बालों वाले लोग

Ans



Question ID : 65497817369  
Chosen Option : 3

Q.24 उस विकल्प का चयन करें, जिसमें दी गई आकृति अन्तःस्थापित है। (घुमाने की अनुमति नहीं है)



Ans

✗ 1.



✓ 2.



✗ 3.



✗ 4.



Question ID : 65497817366  
Chosen Option : 2

Q.25 दिए गए पैटर्न का ध्यानपूर्वक अध्ययन करें और उस संख्या का चयन करें, जो इसमें प्रश्रवाचक चिह्न (?) के स्थान पर आएगी?

6 12 78  
6 15 99  
3 13 ?

- Ans
- ✗ 1. 50
  - ✗ 2. 45
  - ✗ 3. 54
  - ✓ 4. 49

Question ID : 65497817348  
Chosen Option : 4

Section : Quantitative Aptitude

Q.1 किसी निश्चित वार्षिक दर पर, ₹4,800 की राशि पर  $4\frac{1}{2}$  वर्ष में प्राप्त साधारण ब्याज ₹1,684.80 है। समान राशि पर साधारण ब्याज की समान दर से  $6\frac{2}{3}$  वर्ष में प्राप्त मिश्रधन ज्ञात करें।

- Ans
- 1. ₹7,084
  - 2. ₹7,298
  - 3. ₹7,096
  - 4. ₹7,296

Question ID : 65497814353

Chosen Option : --

Q.2 दस संख्याओं का औसत 18.2 है। प्रथम चार संख्याओं का औसत 16.6 और अंतिम सात संख्याओं का औसत 20.8 है। यदि 4थी संख्या को निकाल दिया जाए, तो शेष संख्याओं का औसत (ठीक एक दशमलव स्थान तक) ज्ञात करें।

- Ans
- 1. 16.7
  - 2. 17.2
  - 3. 15.8
  - 4. 16.9

Question ID : 65497814343

Chosen Option : 4

Q.3 A, किसी वस्तु को 20% की हानि पर B को बेचता है और B इस वस्तु को 32% के लाभ पर C को बेचता है। C इस वस्तु को 20% की हानि पर D को बेचता है। यदि A की हानि, C की हानि से ₹35 कम है, तो B वस्तु को \_\_\_\_\_ में खरीदता है।

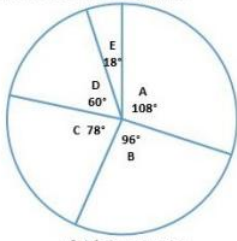
- Ans
- 1. ₹2,940
  - 2. ₹2,800
  - 3. ₹2,750
  - 4. ₹2,500

Question ID : 65497814349

Chosen Option : 4

Q.4 दिए गए पाई चार्ट का अध्ययन करें और नीचे दिए गए प्रश्न का उत्तर दें।

2019 में किसी कंपनी के A, B, C, D और E कार्यालय में कार्यरत कर्मचारियों का (दिवसी के अनुसार) वितरण



कर्मचारियों की कुल संख्या = 300

किस कार्यालय के कर्मचारियों की संख्या, A, C, D और E कार्यालय में कार्यरत कर्मचारियों की औसत संख्या से लगभग 18% अधिक है?

- Ans
- 1. D
  - 2. C
  - 3. A
  - 4. B

Question ID : 65497814362

Chosen Option : 2

Q.5 जब  $x$  को 24, 30, 36 और 46 में से प्रत्येक से घटाया जाता है, तो इस क्रम में प्राप्त संख्याएँ, समानुपात में होती हैं।  $(2x + 3)$  और  $(3x + 2)$  के बीच मध्यानुपात (mean proportional) ज्ञात करें।

- Ans
- 1.  $10\sqrt{3}$
  - 2.  $12\sqrt{3}$
  - 3. 12
  - 4. 10

Question ID : 65497814350

Chosen Option : --

Q.6 कोई व्यक्ति, शांत जल में 5 m/sec की चाल से नाव चला सकता है। धारा की चाल 6 km/h है। उसके द्वारा धारा की दिशा में 76.8 km की दूरी तय करने में लगने वाला समय (घंटे में) ज्ञात करें।

- Ans
- 1. 2.8
  - 2. 3.2
  - 3. 3.5
  - 4. 2.4

Question ID : 65497814357

Chosen Option : 2

Q.7 A और B की मासिक आय का अनुपात 2 : 3 है और उनकी बचत का अनुपात 3 : 4 है। यदि A की आय B की बचत के बराबर है, तो A और B के व्यय का अनुपात ज्ञात करें।

- Ans
- 1. 4 : 5
  - 2. 3 : 4
  - 3. 2 : 3
  - 4. 1 : 2

Question ID : 65497814352  
Chosen Option : 4

Q.8  $6 \times 2 \div 3$  of  $12 - 3 \div 2 \times (2 - 3) \times 2 + 3 \div 2$  of 3 का मान कितना होगा?

- Ans
- 1.  $\frac{19}{6}$
  - 2.  $\frac{13}{6}$
  - 3.  $\frac{17}{6}$
  - 4.  $\frac{23}{6}$

Question ID : 65497816481  
Chosen Option : 4

Q.9 एक व्यक्ति अपनी आय का 28% बचाता है। यदि उसकी आय में 20% की वृद्धि होती है और व्यय में 5% की कमी होती है, तो उसके बचत में x% की वृद्धि होती है। x का निकटतम मान ज्ञात करें।

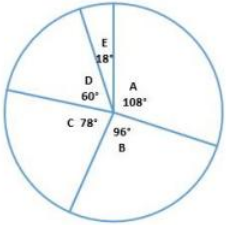
- Ans
- 1. 84.3
  - 2. 54.4
  - 3. 72.5
  - 4. 45.8

Question ID : 65497814347  
Chosen Option : 1



Q.10 दिए गए पाई चार्ट का अध्ययन करें और नीचे दिए गए प्रश्न का उत्तर दें।

2019 में किसी कंपनी के A, B, C, D और E कार्यालय में कार्यरत कर्मचारियों का (टिपों के अनुसार) वितरण



कर्मचारियों की कुल संख्या = 300

कार्यालय A में, 40% कर्मचारी महिला हैं और कार्यालय C में 60% कर्मचारी पुरुष हैं। कार्यालय A में पुरुष कर्मचारियों की संख्या और कार्यालय C में महिला कर्मचारियों की संख्या का अनुपात ज्ञात करें।

- Ans
- ✗ 1. 15 : 8
  - ✗ 2. 9 : 4
  - ✗ 3. 18 : 13
  - ✓ 4. 27 : 13

Question ID : 65497814364  
Chosen Option : 3

Q.11 A और B की चाल का अनुपात 2 : 5 है। किसी निश्चित दूरी को तय करने में, यदि A को B से 15 मिनट अधिक समय लगता है, तो B को समान दूरी तय करने में कितना समय (मिनट में) लगेगा?

- Ans
- ✗ 1. 8
  - ✗ 2. 9
  - ✗ 3. 12
  - ✓ 4. 10

Question ID : 65497814358  
Chosen Option : 4

Q.12 A, किसी कार्य को 30 दिन में कर सकता है। B, A से 25% अधिक कुशल है और C, B से 20% अधिक कुशल है। A और B एक साथ 10 दिन तक कार्य करते हैं। अकेले C शेष कार्य को x दिन में पूरा करता है। x का मान ज्ञात करें।

- Ans
- ✗ 1. 6
  - ✓ 2. 5
  - ✗ 3. 8
  - ✗ 4. 4

Question ID : 65497814356  
Chosen Option : 2

Q.13 सुमन, किसी निश्चित राशि को अपनी तीन बेटियों के बीच 2 : 3 : 4 के अनुपात में विभाजित करती है। यदि वह राशि को  $\frac{1}{2} : \frac{1}{3} : \frac{1}{4}$  के अनुपात में विभाजित करती, तो पहले जिस बेटे को सबसे कम हिस्सा प्राप्त हुआ था उसे ₹3,500 अधिक प्राप्त होता। राशि ज्ञात करें।

- Ans
- ✗ 1. ₹14,000
  - ✓ 2. ₹14,625
  - ✗ 3. ₹13,750
  - ✗ 4. ₹14,500

Question ID : 65497814351  
Chosen Option : 2

Q.14 13 cm ऊंचाई वाले ठोस लंबवृत्तीय बेलन का कुल पृष्ठीय क्षेत्रफल  $880 \text{ cm}^2$  है। इसका आयतन ( $\text{cm}^3$  में) 11k है। k का मान ज्ञात करें। ( $\pi = \frac{22}{7}$  लें)

- Ans
- ✗ 1. 91
  - ✗ 2. 104
  - ✓ 3. 182
  - ✗ 4. 208

Question ID : 65497814260  
Chosen Option : 3

Q.15  $\frac{3}{8} + \frac{1}{7} \times 1\frac{3}{4} + \left(\frac{2}{3} \div \frac{3}{10} \text{ of } \frac{4}{9}\right) - \left(3\frac{1}{5} \div 4\frac{1}{2} \text{ of } 5\frac{1}{3}\right) \times \frac{15}{8}$  का मान ज्ञात करें।

- Ans
- ✗ 1.  $5\frac{1}{2}$
  - ✗ 2.  $10\frac{1}{2}$
  - ✗ 3.  $10\frac{1}{4}$
  - ✓ 4.  $5\frac{3}{8}$

Question ID : 65497814342  
Chosen Option : 4

Q.16 A, किसी कार्य के  $33\frac{1}{3}\%$  भाग को 10 दिन में कर सकता है और B उसी कार्य के 20% भाग को 9 दिन में कर सकता है। वे एक साथ 8 दिन तक कार्य करते हैं। अकेले C, शेष कार्य के 30% भाग को 10 दिन में पूरा करता है। एक साथ A और C उसी कार्य को कितने दिन में पूरा करेंगे?

- Ans
- ✗ 1. 18 दिन
  - ✓ 2. 20 दिन
  - ✗ 3. 12 दिन
  - ✗ 4. 15 दिन

Question ID : 65497814355  
Chosen Option : --

Q.17  $48 \div [5 + \{19 - (16 - 16 \div 4 \times 3 \text{ of } 2)\}]$  का मान ज्ञात करें।

- Ans
- 1.  $\frac{1}{2}$
  - 2.  $\frac{3}{4}$
  - 3.  $\frac{2}{3}$
  - 4.  $\frac{3}{2}$

Question ID : 65497814341

Chosen Option : 4

Q.18 दिए गए आंकड़ों की माध्यिका और बहुलक का माध्य ज्ञात करें।

19, 20, 14, 15, 19, 16, 17, 15, 14, 13, 18, 19, 17, 13?

- Ans
- 1. 17.75
  - 2. 17.25
  - 3. 17
  - 4. 18

Question ID : 65497814346

Chosen Option : --

Q.19 किसी वस्तु का अंकित मूल्य ₹2,560 है। एक सेल के दौरान इस वस्तु पर 20% और x% की दो क्रमागत छूटें दी जाती हैं। यदि वस्तु का विक्रय मूल्य ₹1,679.36 है, तो x का मान ज्ञात करें।

- Ans
- 1. 12.5
  - 2. 16.5
  - 3. 18
  - 4. 15

Question ID : 65497814345

Chosen Option : 3

Q.20 2 अंकों वाली संख्याओं 37, 45,  $6x$  और  $x6$  का औसत 48 है।  $(4x + 3)$  और  $(x + 7)$  का औसत ज्ञात करें।

- Ans
- 1. 17.5
  - 2. 12.5
  - 3. 20
  - 4. 15

Question ID : 65497814344

Chosen Option : --

Q.21 120 m लंबे और 98 m चौड़े आयताकार प्लाट की दोनों भुजाओं की चौड़ाई से लगी हुई अर्द्ध-वृत्ताकार फुलवारी है।  
₹16.50 प्रति m की दर से, प्लाट के चारों ओर बाड़ लगाने की लागत ज्ञात करें। ( $\pi = \frac{22}{7}$  लें)

- Ans
- 1. ₹9,009
  - 2. ₹9,042
  - 3. ₹8,943
  - 4. ₹8,910

Question ID : 65497814359  
Chosen Option : --

Q.22 किसी वस्तु को ₹820 में बेचकर, अभि को 18% की हानि होती है। 25.5% लाभ के लिए, उसे इस वस्तु को \_\_\_\_\_  
में बेचना चाहिए।

- Ans
- 1. ₹1,255
  - 2. ₹1,260
  - 3. ₹1,250
  - 4. ₹1,275

Question ID : 65497814348  
Chosen Option : 1

Q.23 वह छोटी से छोटी संख्या ज्ञात करें, जिसे 2963 से घटाने पर परिणामी संख्या को जब 9, 10 और 15 से विभाजित  
किया जाए, तो प्रत्येक स्थिति में 5 शेषफल प्राप्त हों?

- Ans
- 1. 82
  - 2. 39
  - 3. 78
  - 4. 41

Question ID : 65497814340  
Chosen Option : --

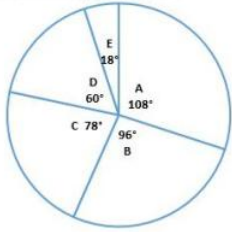
Q.24 जब ब्याज हर 8 महीने के बाद संयोजित होता है, तो किसी निश्चित राशि पर वार्षिक 15% की दर से 2 वर्ष में प्राप्त  
चक्रवृद्धि ब्याज ₹3,641 है। राशि ज्ञात करें।

- Ans
- 1. ₹11,000
  - 2. ₹10,000
  - 3. ₹9,000
  - 4. ₹9,600

Question ID : 65497814354  
Chosen Option : --

Q.25 दिए गए पाई चार्ट का अध्ययन करें और नीचे दिए गए प्रश्न का उत्तर दें।

2019 में किसी कंपनी के A, B, C, D और E कार्यालय में कार्यरत कर्मचारियों का (दिल्ली के अनुसार) वितरण



कर्मचारियों की कुल संख्या = 300

C और E कार्यालय में कर्मचारियों की कुल संख्या, A कार्यालय में कर्मचारियों की संख्या से कितने प्रतिशत कम है?

- Ans
- ✗ 1.  $15\frac{1}{4}$
  - ✗ 2.  $16\frac{2}{3}$
  - ✓ 3.  $11\frac{1}{9}$
  - ✗ 4.  $12\frac{1}{2}$

Question ID : 65497814363  
Chosen Option : 3

Section : General Awareness

Q.1 लिट्टी चोखा निम्नलिखित में से किस राज्य का प्रसिद्ध व्यंजन है?

- Ans
- ✗ 1. महाराष्ट्र
  - ✗ 2. गुजरात
  - ✓ 3. बिहार
  - ✗ 4. ओडिशा

Question ID : 65497814568  
Chosen Option : 3

Q.2 22 जुलाई 2020 को, किसे अंतर्राष्ट्रीय रेलवे सुरक्षा मंच के उपाध्यक्ष के रूप में नामित किया गया था?

- Ans
- ✗ 1. फ्रांकोइस डेविने
  - ✗ 2. मागरिट चान
  - ✓ 3. अरुण कुमार
  - ✗ 4. सौम्या स्वामीनाथन

Question ID : 65497814573  
Chosen Option : --

Q.3 निम्नलिखित में से कौन सी पृथ्वी की सतह की निकटतम परत है जिसमें सभी मौसमी परिवर्तन होते हैं?

- Ans  1. मध्यमंडल  
 2. समतापमंडल  
 3. क्षीभमंडल  
 4. आयनमंडल

Question ID : 65497814588  
Chosen Option : 3

Q.4 1751 ई. (AD) में 'द सीज ऑफ आर्काट (अर्काट की युद्ध घेराबंदी)' में कौन विजयी हुआ था?

- Ans  1. अंग्रेज  
 2. डच  
 3. पुर्तगाली  
 4. फ्रांसीसी

Question ID : 65497814591  
Chosen Option : --

Q.5 \_\_\_\_\_ तब होता है जब विटामिन D की कमी के कारण बच्चे की बढ़ती हड्डियाँ विकसित नहीं हो पाती हैं।

- Ans  1. सूखा रोग  
 2. रतौंधी  
 3. स्कर्वी  
 4. गण्डमाला

Question ID : 65497814584  
Chosen Option : 1

Q.6 चेराव नृत्य किस राज्य का एक पारंपरिक नृत्य रूप है?

- Ans  1. मिज़ोरम  
 2. अरुणाचल प्रदेश  
 3. सिक्किम  
 4. असम

Question ID : 65497814569  
Chosen Option : 1

Q.7 22 जुलाई 2020 को, अभिनेता सोनू सूद ने नौकरी खोजने और विशिष्ट नौकरी प्रशिक्षण कार्यक्रम पेश करने के लिए \_\_\_\_\_ ऐप लॉन्च किया था।

- Ans  1. सबका रोज़गार  
 2. प्रवासी रोज़गार  
 3. प्रवासी आत्मनिर्भर  
 4. ग्रामीण रोज़गार

Question ID : 65497814572  
Chosen Option : 2

Q.8 किस टीम ने तमिलनाडु को फाइनल में हराकर चौथी बार 2019-20 विजय हजारे ट्रॉफी जीती?

- Ans
- 1. बिहार
  - 2. मुंबई
  - 3. झारखंड
  - 4. कर्नाटक

Question ID : 65497814571  
Chosen Option : 2

Q.9 निम्नलिखित में से कौन सा दुनिया का तीसरा सबसे ऊँचा पर्वत है?

- Ans
- 1. एवरेस्ट
  - 2. अन्नपूर्णा
  - 3. कंचनजंगा
  - 4. K2

Question ID : 65497814586  
Chosen Option : 3

Q.10 ब्रिटिश वायसराय लॉर्ड कर्जन ने बंगाल का विभाजन किस वर्ष में किया था?

- Ans
- 1. 1901
  - 2. 1905
  - 3. 1907
  - 4. 1911

Question ID : 65497814590  
Chosen Option : 2

Q.11 भारत के राष्ट्रीय अभिलेखागार की स्थापना किस वर्ष की गई थी?

- Ans
- 1. 1891
  - 2. 1835
  - 3. 1830
  - 4. 1840

Question ID : 65497814589  
Chosen Option : 2

Q.12 ओवी, एक विशिष्ट प्रकार का लोक गीत है, जो महिलाओं के मायके और ससुराल का वर्णन करने वाले दोहों से बना होता है और सामूहिक रूप से पारंपरिक गीतों के साथ-साथ गांव की महिलाओं द्वारा गाया जाता है, यह किस राज्य से संबंधित है?

- Ans
- 1. गोवा
  - 2. महाराष्ट्र
  - 3. असम
  - 4. मिज़ोरम

Question ID : 65497814567  
Chosen Option : --

Q.13 निम्नलिखित में से किस उपकरण का उपयोग विद्युत प्रवाह के मापन के लिए किया जाता है, चाहे वह दिष्ट धारा हो या प्रत्यावर्ती धारा?

- Ans
- 1. पाइरोमीटर
  - 2. वाटमीटर
  - 3. हाइग्रोमीटर
  - 4. एमीटर

Question ID : 65497814580  
Chosen Option : 4

Q.14 मानव शरीर की सबसे छोटी हड्डी कौन सी होती है?

- Ans
- 1. ह्यूमरस
  - 2. स्टेपीज़
  - 3. पेल्विस
  - 4. फैलेंजेस

Question ID : 65497814582  
Chosen Option : 2

Q.15 जुलाई 2021 तक प्राप्त जानकारी के अनुसार अंतर्राष्ट्रीय मुद्रा कोष के मुख्य अर्थशास्त्री का नाम क्या है?

- Ans
- 1. गीता गोपीनाथ
  - 2. रघुराम राजन
  - 3. कृष्ण भारद्वाज
  - 4. मोंटेक सिंह अहलूवालिया

Question ID : 65497814374  
Chosen Option : 1

Q.16 'शेम' (Shame) पुस्तक के लेखक कौन है?

- Ans
- 1. रूडयार्ड किपलिंग
  - 2. चार्ल्स डिक्केस
  - 3. सलमान रुश्दी
  - 4. एरिक सेगल

Question ID : 65497814574  
Chosen Option : 1

Q.17 बजट 2019-20 के अनुसार, निम्नलिखित में से कौन सा भारत सरकार की आय का एकमात्र सबसे बड़ा स्रोत है, जिसका प्रत्येक अर्जित रुपये में 21 पैसे का योगदान है?

- Ans
- 1. सीमा शुल्क
  - 2. सेवा कर
  - 3. गैर-कर राजस्व
  - 4. निगम कर

Question ID : 65497814577  
Chosen Option : 2



Q.18 \_\_\_\_\_ पठार, गारो हिल्स, खासी हिल्स और जयंतिया हिल्स में उप-विभाजित है, जिसका नाम इस क्षेत्र में रहने वाले जनजातीय समूहों के नाम पर रखा गया है।

- Ans
- 1. बघेलखण्ड
  - 2. मालवा
  - 3. मेघालय
  - 4. छोटा नागपुर

Question ID : 65497814587  
Chosen Option : 1

Q.19 इक्थियोलॉजी (Ichthyology) इनमें से किससे संबंधित है?

- Ans
- 1. मछलियों का अध्ययन
  - 2. पक्षियों का अध्ययन
  - 3. सरीसृपों और उभयचरों का अध्ययन
  - 4. कीटों का अध्ययन

Question ID : 65497814581  
Chosen Option : 3

Q.20 पूजा ढांडा को 2019 का अर्जुन पुरस्कार किस खेल के लिए दिया गया?

- Ans
- 1. कुश्ती
  - 2. टेनिस
  - 3. एथलेटिक्स
  - 4. मुक्केबाज़ी

Question ID : 65497814570  
Chosen Option : --

Q.21 हड्डी के घनत्व और सामर्थ्य के हास को क्या कहा जाता है?

- Ans
- 1. फ्रैक्चर
  - 2. फाइब्रस डिस्प्लेसिया
  - 3. ऑस्टियोपोरोसिस
  - 4. एक्रोमिगेली

Question ID : 65497814585  
Chosen Option : 3

Q.22 भारत के संविधान का कौन सा भाग नागरिकों के कर्तव्यों से संबंधित है?

- Ans
- 1. भाग II
  - 2. भाग X
  - 3. भाग III
  - 4. भाग IVA

Question ID : 65497814578  
Chosen Option : 4

Q.23 \_\_\_\_\_ के आर्थिक सर्वेक्षण में 'थालीनॉमिक्स' (थालीशास्त्र) पेश किया गया था।

- Ans  1. 2017-18  
 2. 2019-20  
 3. 2018-19  
 4. 2016-17

Question ID : 65497816595  
Chosen Option : 2

Q.24 भारतीय संविधान का अनुच्छेद 32 किससे संबंधित है?

- Ans  1. जीवन का अधिकार  
 2. वित्तीय आपातकाल  
 3. संवैधानिक उपचार का अधिकार  
 4. संपत्ति का अधिकार

Question ID : 65497814579  
Chosen Option : 3

Q.25 निम्न में से क्या अस्थि मज्जा द्वारा बनाई गई रक्त कोशिका का एक प्रकार नहीं है?

- Ans  1. लाल रक्त कणिकाएं  
 2. बिम्बाणु  
 3. अस्थिशोषक  
 4. श्वेत रक्त कणिकाएं

Question ID : 65497814583  
Chosen Option : 2

## Multi Tasking Non Technical Staff Examination 2020

Participant ID	www.exammix.com
Participant Name	
Test Center Name	
Test Date	05/10/2021
Test Time :	4:00 PM - 5:30 PM
Subject	MTS Non Technical 2020

Section : **General English**

**Q.1** Select the most appropriate word to fill in the blank.

Rohan is quite popular \_\_\_\_\_ his classmates.

- Ans
- 1. along
  - 2. across
  - 3. among
  - 4. between

Question ID : **65497816009**  
Chosen Option : **3**

**Q.2** Select the most appropriate meaning of the given idiom.

**Sell like hot cakes**

- Ans
- 1. Sell stale cakes
  - 2. Sell very slowly
  - 3. Sell at a loss
  - 4. Sell very fast

Question ID : **65497816024**  
Chosen Option : **2**

**Q.3** Identify the segment in the sentence which contains a grammatical error.

**We should focus on only one thing in the time.**

- Ans
- 1. We should
  - 2. in the time
  - 3. only one thing
  - 4. focus on

Question ID : **65497816007**  
Chosen Option : **2**

**Q.4** Select the most appropriate option to substitute the underlined segment in the given sentence. If there is no need to substitute it, select 'No substitution required'.

We watched the workman to be removing the damaged tiles.

- Ans
- 1. No substitution required
  - 2. to remove
  - 3. remove
  - 4. to removing

Question ID : 65497817231  
Chosen Option : 2

**Q.5** Select the most appropriate one-word substitution for the given group of words.

One who reads a lot

- Ans
- 1. Witty
  - 2. Clever
  - 3. Intelligent
  - 4. Bookworm

Question ID : 65497816026  
Chosen Option : 4

**Q.6** Select the INCORRECTLY spelt word.

- Ans
- 1. Contractor
  - 2. Prosecutor
  - 3. Compititor
  - 4. Instructor

Question ID : 65497816029  
Chosen Option : 3

**Q.7** Select the most appropriate one-word substitution for the given group of words.

Make impure by adding inferior substances

- Ans
- 1. Adjudicate
  - 2. Adulterate
  - 3. Obliterate
  - 4. Obviate

Question ID : 65497816027  
Chosen Option : 2

**Q.8** Select the most appropriate synonym of the given word.

**POTENT**

- Ans
- 1. wonderful
  - 2. graceful
  - 3. powerful
  - 4. beautiful

Question ID : 65497816022  
Chosen Option : 3

**Q.9** Select the most appropriate word to fill in the blank.

Rohit prepared an \_\_\_\_\_ chart on the benefits of afforestation.

- Ans
- 1. elaborate
  - 2. oriental
  - 3. auspicious
  - 4. enhanced

Question ID : 65497816031  
Chosen Option : 2

**Q.10** Select the most appropriate meaning of the given idiom.

**Break new ground**

- Ans
- 1. Do or discover something new
  - 2. Dig fresh ground for sowing seeds
  - 3. Build a new house
  - 4. Break an old structure

Question ID : 65497816025  
Chosen Option : 1

**Q.11** Select the most appropriate ANTONYM of the given word.

**COMPLEX**

- Ans
- 1. knotty
  - 2. mixed
  - 3. motley
  - 4. simple

Question ID : 65497816020  
Chosen Option : 4

**Q.12** Select the most appropriate option to substitute the underlined segment in the given sentence. If there is no need to substitute it, select 'No substitution required.'

Please don't create panic among people during that difficult times.

- Ans
- 1. those
  - 2. these
  - 3. this
  - 4. No substitution required

Question ID : 65497815109  
Chosen Option : 2

**Q.13** Select the most appropriate synonym of the given word.

LIMPID

- Ans
- 1. obscure
  - 2. subtle
  - 3. lucid
  - 4. blunt

Question ID : 65497816023  
Chosen Option : 3

**Q.14** Identify the segment in the sentence which contains a grammatical error.

The crow held back to the piece of bread with its claws.

- Ans
- 1. with its claws
  - 2. to the piece
  - 3. The crow held back
  - 4. of bread

Question ID : 65497816008  
Chosen Option : 1

**Q.15** Select the INCORRECTLY spelt word.

- Ans
- 1. Pleasent
  - 2. Persistent
  - 3. Reluctant
  - 4. Accountant

Question ID : 65497816028  
Chosen Option : 1

Q.16 Select the most appropriate word to fill in the blank.

He helped me with the lessons \_\_\_\_\_ I should fail.

- Ans
- 1. lest
  - 2. so that
  - 3. unless
  - 4. because

Question ID : 65497816010  
Chosen Option : 3

Q.17 Identify the segment in the sentence which contains a grammatical error.

After we had ate a hearty meal, we went to sleep.

- Ans
- 1. we went
  - 2. to sleep
  - 3. After we had ate
  - 4. a hearty meal

Question ID : 65497816006  
Chosen Option : 3

Q.18 Select the most appropriate option to substitute the underlined segment in the given sentence. If there is no need to substitute it, select 'No substitution required'.

The team members will meet on a airport at 7 a.m. tomorrow.

- Ans
- 1. by an airport
  - 2. at the airport
  - 3. in the airport
  - 4. No substitution required

Question ID : 65497816017  
Chosen Option : 2

Q.19 Select the most appropriate word to fill in the blank.

After the trek I felt a \_\_\_\_\_ pain in my leg.

- Ans
- 1. stern
  - 2. strict
  - 3. sour
  - 4. severe

Question ID : 65497816030  
Chosen Option : 4

**Q.20** Select the most appropriate **ANTONYM** of the given word.

**VALIANT**

- Ans  1. barren  
 2. worthy  
 3. cowardly  
 4. gallant

Question ID : **65497816021**  
Chosen Option : --

**Comprehension:**

In the following passage some words have been deleted. Fill in the blanks with the help of the options given. Select the most appropriate option for each blank.

We are having a great time in Darjeeling (1)\_\_\_\_\_ the temperature is hitting (2)\_\_\_\_\_ all time low this season. We did carry (3)\_\_\_\_\_ warm clothing but we completely (4)\_\_\_\_\_ our umbrellas and it has been (5)\_\_\_\_\_ ever since we got here.

**SubQuestion No : 21**

**Q.21** Select the most appropriate option to fill in blank no. 1.

- Ans  1. until  
 2. although  
 3. whether  
 4. before

Question ID : **65497816012**  
Chosen Option : 1

**Comprehension:**

In the following passage some words have been deleted. Fill in the blanks with the help of the options given. Select the most appropriate option for each blank.

We are having a great time in Darjeeling (1)\_\_\_\_\_ the temperature is hitting (2)\_\_\_\_\_ all time low this season. We did carry (3)\_\_\_\_\_ warm clothing but we completely (4)\_\_\_\_\_ our umbrellas and it has been (5)\_\_\_\_\_ ever since we got here.

**SubQuestion No : 22**

**Q.22** Select the most appropriate option to fill in blank no. 2.

- Ans  1. a  
 2. an  
 3. so  
 4. such

Question ID : **65497816013**  
Chosen Option : 4



**Comprehension:**

In the following passage some words have been deleted. Fill in the blanks with the help of the options given. Select the most appropriate option for each blank.

We are having a great time in Darjeeling (1)\_\_\_\_\_ the temperature is hitting (2)\_\_\_\_\_ all time low this season. We did carry (3)\_\_\_\_\_ warm clothing but we completely (4)\_\_\_\_\_ our umbrellas and it has been (5)\_\_\_\_\_ ever since we got here.

**SubQuestion No : 23**

**Q.23** Select the most appropriate option to fill in blank no. 3.

- Ans  1. adequate  
 2. satisfactory  
 3. capable  
 4. acceptable

Question ID : 65497816014  
Chosen Option : 1

**Comprehension:**

In the following passage some words have been deleted. Fill in the blanks with the help of the options given. Select the most appropriate option for each blank.

We are having a great time in Darjeeling (1)\_\_\_\_\_ the temperature is hitting (2)\_\_\_\_\_ all time low this season. We did carry (3)\_\_\_\_\_ warm clothing but we completely (4)\_\_\_\_\_ our umbrellas and it has been (5)\_\_\_\_\_ ever since we got here.

**SubQuestion No : 24**

**Q.24** Select the most appropriate option to fill in blank no. 4.

- Ans  1. foiled  
 2. finished  
 3. forgot  
 4. failed

Question ID : 65497816015  
Chosen Option : 3

**Comprehension:**

In the following passage some words have been deleted. Fill in the blanks with the help of the options given. Select the most appropriate option for each blank.

We are having a great time in Darjeeling (1)\_\_\_\_\_ the temperature is hitting (2)\_\_\_\_\_ all time low this season. We did carry (3)\_\_\_\_\_ warm clothing but we completely (4)\_\_\_\_\_ our umbrellas and it has been (5)\_\_\_\_\_ ever since we got here.

**SubQuestion No : 25**

**Q.25** Select the most appropriate option to fill in blank no. 5.

- Ans  1. showering  
 2. pouring  
 3. slashing  
 4. drenching

Question ID : 65497816016  
Chosen Option : 1

Section : General Intelligence and Reasoning

Q.1 किसी निश्चित कूट भाषा में '893' का अर्थ 'Shahid likes cakes' है, '137' का अर्थ 'cakes are delicious' है और '274' का अर्थ 'we are girls' है। इसी भाषा में, निम्न में से किस संख्या का अर्थ 'girls' होगा?

Ans  1. 3

2. 2

3. 7

4. 9

Question ID : 65497817152

Chosen Option : 2

Q.2 दो कथनों के बाद चार निष्कर्ष दिए गए हैं। यह मानते हुए कि कथन सत्य हैं, भले ही वे सामान्य रूप से ज्ञात तथ्यों से भिन्न प्रतीत होते हों, बताएं कि कौन से निष्कर्ष दिए गए कथनों का तार्किक रूप से अनुसरण करते हैं।

कथन:

- कुछ पुरुष बंगाली हैं।
- सभी महिलाएं बंगाली हैं।

निष्कर्ष:

- कोई भी बंगाली पुरुष नहीं है।
- कुछ महिलाएं पुरुष हैं।
- सभी महिलाएं पुरुष हैं।
- कोई भी महिला, पुरुष नहीं है।

Ans  1. या तो निष्कर्ष II या III या फिर IV अनुसरण करता है।

2. निष्कर्ष I और IV दोनों अनुसरण करते हैं।

3. केवल निष्कर्ष I अनुसरण करता है।

4. निष्कर्ष I और II दोनों अनुसरण करते हैं।

Question ID : 65497817157

Chosen Option : 1

Q.3 उस संख्या का चयन करें, जो निम्न संख्या श्रेणी में प्रश्नवाचक चिह्न (?) के स्थान पर आएगी?

15, 19, 28, 44, ?, 105

Ans  1. 76

2. 64

3. 72

4. 69

Question ID : 65497817147

Chosen Option : 4

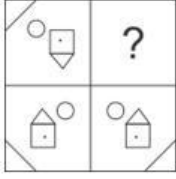
Q.4 निम्न को एक तार्किक और सार्थक क्रम में व्यवस्थित करें।

- I. कामेट
- II. कंचनजंगा
- III. नंदादेवी
- IV. साल्तोरो कांगरी

- Ans
- 1. II, I, III, IV
  - 2. III, I, IV, II
  - 3. I, III, II, IV
  - 4. III, IV, I, II

Question ID : 65497817161  
Chosen Option : 3

Q.5 सही विकल्प का चयन करके, दिए गए पैटर्न के अनुपस्थित भाग को पूरा करें।



- Ans
- 1.
  - 2.
  - 3.
  - 4.

Question ID : 65497817163  
Chosen Option : 3

Q.6 उस विकल्प का चयन करें, जो तीसरे अक्षर-समूह से ठीक उसी प्रकार संबंधित है, जिस प्रकार दूसरा अक्षर-समूह पहले अक्षर-समूह से संबंधित है।

HOST : JKYL :: SOLO : ?

- Ans
- 1. UKRG
  - 2. UKGR
  - 3. YKPK
  - 4. YKTK

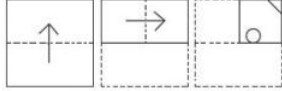
Question ID : 65497817153  
Chosen Option : 1

Q.7 किसी निश्चित कूट भाषा में '274' का अर्थ 'you are fool' है, '137' का अर्थ 'Rohan is fool' है और '893' का अर्थ 'Riya likes Rohan' है। इसी भाषा में निम्न में से किस संख्या का अर्थ 'is' होगा?

- Ans
- 1. 4
  - 2. 3
  - 3. 2
  - 4. 1

Question ID : 65497817151  
Chosen Option : 4

Q.8 एक कागज को बिंदीदार रेखाओं पर मोड़ा जाता है, जैसा कि पहली दो आकृतियों में दिखाया गया है। और इसे तीसरी आकृति के अनुसार काटा जाता है। जब इसे खोला जाएगा, तो यह कैसा दिखेगा?



Ans

- 1.
- 2.
- 3.
- 4.

Question ID : 65497817166  
Chosen Option : 1

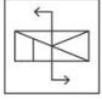
Q.9 उस विकल्प का चयन करें, जिसमें संख्या-युग्म की संख्याएं एक-दूसरे से ठीक उसी प्रकार संबंधित नहीं हैं, जिस प्रकार दिए गए युग्म की संख्याएं एक-दूसरे से संबंधित हैं।

7 : 216

- Ans
- 1. 9 : 512
  - 2. 13 : 1724
  - 3. 8 : 343
  - 4. 12 : 1331

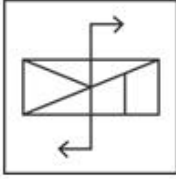
Question ID : 65497817145  
Chosen Option : 3

Q.10 यदि दर्पण को दी गई आकृति के दाईं ओर रखा जाए, तो आकृति के दर्पण में निर्मित सही प्रतिबिंब का चयन कीजिए।

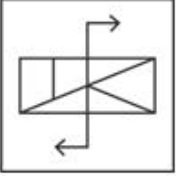


Ans

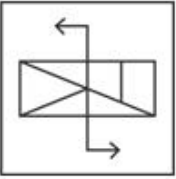
✓ 1.



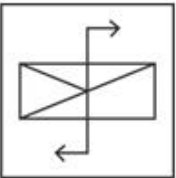
✗ 2.



✗ 3.



✗ 4.

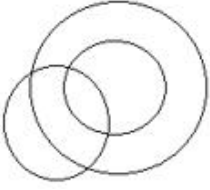


Question ID : 65497817165  
Chosen Option : 1

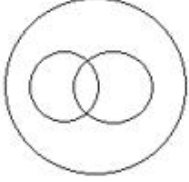
Q.11 उस वेन-आरेख का चयन करें, जो महिलाओं, लड़कियों और दुल्हनों के बीच संबंध को सर्वोत्तम ढंग से निरूपित करता है।

Ans

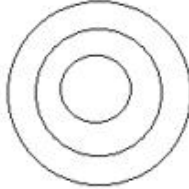
✗ 1.



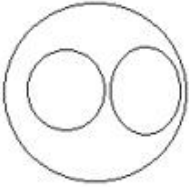
✗ 2.



✓ 3.



✗ 4.



Question ID : 65497817167  
Chosen Option : 2

Q.12 दिए गए विकल्पों में से, संख्याओं के उस समुच्चय का चयन करें, जो दिए गए समुच्चय के सदृश है।

(17, 39, 11)

Ans ✓ 1. (18, 44, 13)

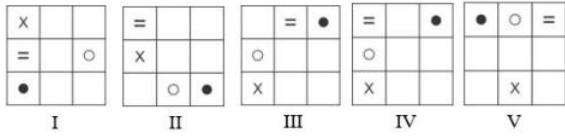
✗ 2. (15, 27, 7)

✗ 3. (13, 47, 19)

✗ 4. (11, 35, 14)

Question ID : 65497817146  
Chosen Option : 1

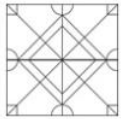
Q.13 बताएं कि किस आकृति को निकाल दिया जाए, ताकि I से शुरू करके सभी आकृतियां एक पैटर्न में फिट हो सकें।



- Ans
- 1. IV
  - 2. V
  - 3. III
  - 4. II

Question ID : 65497817162  
Chosen Option : 1

Q.14 उस आकृति का चयन करें, जो दी गई आकृति में अंतःस्थापित नहीं है (घुमाने की अनुमति नहीं है)।



- Ans
- 1.
  - 2.
  - 3.
  - 4.

Question ID : 65497817164  
Chosen Option : 3

Q.15 अक्षरों के उस सही संयोजन का चयन करें, जिन्हें क्रमिक रूप से दी गई अक्षर श्रेणी में रिक्त स्थानों पर रखने से श्रेणी पूर्ण हो जाएगी।

c \_ \_ d \_ k n d \_ k \_ d c

- Ans
- 1. knncc
  - 2. kcncn
  - 3. nkcdn
  - 4. knccn

Question ID : 65497817156  
Chosen Option : 4

Q.16 एक परिसर में M, N, O, P, Q, R और S नामक सात घर पंक्ति में हैं, लेकिन वे अनिवार्य रूप से इसी क्रम में नहीं हैं। P किसी भी छोर पर नहीं है। R, P के ठीक दाएं पड़ोस में है। S, बाएं से तीसरा है। O एकदम बाएं छोर पर है। M दाईं ओर से दूसरा है। O, N के पड़ोस में नहीं है। S के दाईं ओर दूसरे स्थान पर कौन-सा घर है?

- Ans
- 1. M
  - 2. P
  - 3. Q
  - 4. R

Question ID : 65497817160  
Chosen Option : --

Q.17 उस विकल्प का चयन करें, जो तीसरे शब्द से ठीक उसी प्रकार संबंधित है, जिस प्रकार दूसरा शब्द पहले शब्द से संबंधित है।

आलू : तना :: चना : ?

- Ans
- 1. फूल
  - 2. दाल
  - 3. बीज
  - 4. जड़

Question ID : 65497817154  
Chosen Option : 3

Q.18 उस संख्या का चयन करें, जो दी गई संख्या श्रेणी से संबंधित नहीं है।

39, 46, 60, 82, 109, 144

- Ans
- 1. 82
  - 2. 46
  - 3. 109
  - 4. 39

Question ID : 65497817148  
Chosen Option : 1



Q.19 दिए गए समीकरण को संतुलित करने के लिए, इनमें से किन दो चिह्नों को एक-दूसरे से प्रतिस्थापित करना होगा?

$$17 \times 3 \div 6 - 2 + 7 = 55$$

- Ans  1. + और -  
 2. + और ×  
 3. + और ×  
 4. - और ×

Question ID : 65497817143  
Chosen Option : 1

Q.20 यदि किसी कूट भाषा में, 'WICE' को 'DRXV' लिखा जाता है, तो इसी कूट भाषा में, 'ROPE' को क्या लिखा जाएगा?

- Ans  1. IXLU  
 2. ILJV  
 3. YXKV  
 4. ILKV

Question ID : 65497817150  
Chosen Option : 4

Q.21 दो कथनों के बाद तीन निष्कर्ष दिए गए हैं। यह मानते हुए कि कथन सत्य हैं, भले ही वे सामान्य रूप से ज्ञात तथ्यों से भिन्न प्रतीत होते हों, बताएं कि कौन से निष्कर्ष दिए गए कथनों का तार्किक रूप से अनुसरण करते हैं।

कथन:

- कुछ लड़के कक्षा 2 में हैं।
- शेखर कक्षा 2 में नहीं है।

निष्कर्ष:

- शेखर लड़का नहीं है।
- कक्षा 2 का कोई भी विद्यार्थी लड़का नहीं है।
- शेखर एक लड़का है।

- Ans  1. निष्कर्ष II और III, दोनों अनुसरण करते हैं।  
 2. या तो निष्कर्ष I या III अनुसरण करता है।  
 3. केवल निष्कर्ष II अनुसरण करता है।  
 4. निष्कर्ष I और II, दोनों अनुसरण करते हैं।

Question ID : 65497817158  
Chosen Option : 2

Q.22 गणितीय चिह्नों के उस सही संयोजन का चयन करें, जिन्हें क्रमिक रूप से \* चिह्नों के स्थान पर रखने पर समीकरण संतुलित हो जाएगा।

$$11 * 4 * 3 * 3 * 7 * 8$$

- Ans  1. ×, -, +, ÷, =  
 2. +, ×, ÷, -, =  
 3. +, -, ×, ÷, =  
 4. ×, ÷, +, -, =

Question ID : 65497817144  
Chosen Option : 2

Q.23 यदि किसी कूट भाषा में, 'HOOK' को 'KUXW' लिखा जाता है, तो इसी कूट भाषा में, 'COKE' को क्या लिखा जाएगा?

- Ans
- 1. FXNH
  - 2. FRNH
  - 3. FUWH
  - 4. FUTQ

Question ID : 65497817149  
Chosen Option : 4

Q.24 छह छात्र L, M, N, O, P और Q उत्तर की ओर अभिमुख होकर खड़े हैं, लेकिन जरूरी नहीं कि वे इसी क्रम में खड़े हों। L एक किनारे पर खड़ा है और Q उसके पड़ोस में है। M, P के एकदम दाएं पड़ोस में है। M, दाएं छोर से दूसरे स्थान पर है। N, Q के पड़ोस में नहीं है। Q के एकदम दाएं पड़ोस में कौन खड़ा है?

- Ans
- 1. O
  - 2. P
  - 3. M
  - 4. L

Question ID : 65497817159  
Chosen Option : --

Q.25 उस विकल्प का चयन करें, जो तीसरे शब्द से ठीक उसी प्रकार संबंधित है, जिस प्रकार दूसरा शब्द पहले शब्द से संबंधित है।

मानव शरीर : दवाएं :: पौधे : ?

- Ans
- 1. उर्वरक
  - 2. सिंचाई
  - 3. बीज
  - 4. कीटनाशक

Question ID : 65497817155  
Chosen Option : 4

Section : Numerical Aptitude

Q.1 किसी पुस्तकालय में, गणित की पुस्तकों और भौतिकी की पुस्तकों की संख्या का अनुपात, भौतिकी की पुस्तकों और रसायन की पुस्तकों की संख्या के अनुपात के बराबर है। यदि गणित की पुस्तकों की संख्या 144 और रसायन की पुस्तकों की संख्या 100 है, तो गणित और भौतिकी की पुस्तकों की कुल संख्या और रसायन और भौतिकी की पुस्तकों की कुल संख्या का अनुपात ज्ञात करें।

- Ans
- 1. 5 : 4
  - 2. 3 : 2
  - 3. 4 : 3
  - 4. 6 : 5

Question ID : 65497814250  
Chosen Option : 4

Q.2 कुछ फल ₹100 में 11 की दर से खरीदे गए और उनसे दुगुने फल ₹100 में 8 की दर से खरीदे गए। यदि सभी फल ₹100 में 9 की दर से बेचे गए हों, तो लाभ या हानि प्रतिशत ज्ञात करें।

- Ans
- ✓ 1.  $2\frac{2}{9}\%$ , हानि
  - ✗ 2.  $4\frac{1}{9}\%$ , लाभ
  - ✗ 3. 3%, हानि
  - ✗ 4. 3%, लाभ

Question ID : 65497814248  
Chosen Option : --

Q.3 कोई व्यक्ति, शांत जल में 10 km/h की चाल से नाव चला सकता है। धारा की चाल  $1\frac{1}{9}$  m/sec है। उसके द्वारा धारा की विपरीत दिशा में 72 km की दूरी तय करने में लगने वाला समय (घंटे में) ज्ञात करें।

- Ans
- ✗ 1.  $5\frac{1}{7}$
  - ✓ 2. 12
  - ✗ 3. 10
  - ✗ 4.  $10\frac{2}{7}$

Question ID : 65497814256  
Chosen Option : 2

Q.4 जब x को 55, 50, 23 और 22 में से प्रत्येक से घटाया जाता है, तो इस क्रम में प्राप्त संख्याएं, समानुपात में होती हैं। 3, 7 और x का चतुर्थानुपात (fourth proportional) ज्ञात करें।

- Ans
- ✗ 1. 40
  - ✗ 2. 27
  - ✓ 3. 35
  - ✗ 4. 30

Question ID : 65497814249  
Chosen Option : 3

Q.5 The area of a parallelogram ABCD is  $300 \text{ cm}^2$ . The distance between AB and CD is 20 cm, and the distance between BC and AD is 30 cm. What is the perimeter (in cm) of the parallelogram?

- Ans
- ✓ 1. 50
  - ✗ 2. 40
  - ✗ 3. 100
  - ✗ 4. 60

Question ID : 65497814258  
Chosen Option : 1

Q.6 x, y और z का औसत z से 6 अधिक है। x और y का औसत 50 है। यदि u, z से 6 कम है, तो u और z का औसत ज्ञात करें।

- Ans
- ✓ 1. 38
  - ✗ 2. 39
  - ✗ 3. 43
  - ✗ 4. 40

Question ID : 65497814242  
Chosen Option : 1

Q.7 कोई निश्चित कार्य करने के लिए, A और B की कार्य क्षमताओं का अनुपात 7 : 6 है। एक साथ कार्य करते हुए, वे उसी कार्य को 21 दिन में पूरा कर सकते हैं। अकेले B, 26 दिन में उस कार्य का कितना भाग पूरा करेगा?

- Ans
- ✗ 1.  $\frac{5}{6}$
  - ✗ 2.  $\frac{2}{3}$
  - ✓ 3.  $\frac{4}{7}$
  - ✗ 4.  $\frac{5}{8}$

Question ID : 65497814255  
Chosen Option : 3

Q.8 किसी वस्तु का अंकित मूल्य ₹3,600 है। बिक्री के दौरान इस वस्तु पर x% और 15% की दो क्रमागत छूट दी जाती हैं। यदि वस्तु का विक्रय मूल्य ₹2,448 है, तो x का मान ज्ञात करें।

- Ans
- ✓ 1. 20
  - ✗ 2. 25
  - ✗ 3. 10
  - ✗ 4. 18

Question ID : 65497814244  
Chosen Option : 1

Q.9 कोई रेलगाड़ी, निश्चित चाल से 108 km की दूरी तय करती है। यदि उसकी चाल में 18 km/h की वृद्धि हो, तो उसे समान दूरी को तय करने में 18 मिनट कम समय लगेगा। रेलगाड़ी की मूल चाल (km/h में) ज्ञात करें।

- Ans
- ✓ 1. 72
  - ✗ 2. 54
  - ✗ 3. 80
  - ✗ 4. 63

Question ID : 65497814257  
Chosen Option : --

Q.10 माना x, 4-अंकों की वह बड़ी से बड़ी संख्या है, जो 16, 21, 24 और 28 प्रत्येक से विभाज्य है। x के अंकों का योगफल ज्ञात करें।

- Ans
- 1. 21
  - 2. 16
  - 3. 24
  - 4. 19

Question ID : 65497814239  
Chosen Option : 3

Q.11  $\frac{6.25 + \frac{6}{7} \text{ of } 21 - 3}{\frac{3}{4} \text{ of } (15.8 - 3.4) + 5 \times 2.39}$  का मान ज्ञात कीजिए।

- Ans
- 1.  $\frac{11}{5}$
  - 2.  $\frac{17}{5}$
  - 3. 1
  - 4. 0

Question ID : 65497816381  
Chosen Option : 3

Q.12 A और B किसी कार्य को क्रमशः 12 दिन और 20 दिन में पूरा कर सकते हैं। वे एक साथ 4 दिन तक कार्य करते हैं। अकेले C, शेष कार्य को 14 दिन में पूरा करता है। एक साथ B और C उसी कार्य को कितने दिन में पूरा सकते हैं?

- Ans
- 1. 12 दिन
  - 2. 16 दिन
  - 3. 10 दिन
  - 4. 15 दिन

Question ID : 65497814254  
Chosen Option : 1

Q.13  $\frac{4}{9} \div \left(\frac{3}{5} - \frac{1}{2}\right) \times \frac{9}{25} - \left(\frac{2}{3} \div \frac{3}{4} \text{ of } \frac{5}{3}\right) + \left(5\frac{1}{4} \div \frac{3}{7} \text{ of } \frac{1}{4} \times \frac{3}{35}\right)$  का मान ज्ञात करें।

- Ans
- 1.  $1\frac{3}{5}$
  - 2.  $5\frac{4}{15}$
  - 3.  $1\frac{7}{15}$
  - 4.  $2\frac{3}{5}$

Question ID : 65497814241  
Chosen Option : 2

Q.14 92 छात्रों वाली किसी कक्षा में, लड़कों और लड़कियों की संख्या का अनुपात 12 : 11 है। किसी परीक्षा में, लड़कियों का औसत स्कोर लड़कों से  $33\frac{1}{3}\%$  अधिक है। यदि सभी छात्रों का औसत स्कोर 80 है, तो लड़कियों का औसत स्कोर ज्ञात करें।

- Ans
- 1. 96
  - 2. 92
  - 3. 84
  - 4. 88

Question ID : 65497814251  
Chosen Option : 2

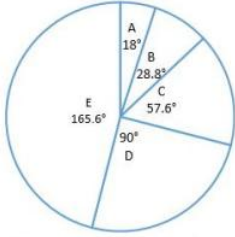
Q.15 कमल, अपनी मासिक आय का  $x\%$  बचाती है। जब उसकी मासिक व्यय में 20% की वृद्धि और मासिक आय में 26% की वृद्धि होती है, तो उसकी मासिक बचत में 60% की वृद्धि होती है।  $x$  का मान ज्ञात करें।

- Ans
- 1. 12
  - 2. 16
  - 3. 15
  - 4. 18

Question ID : 65497814246  
Chosen Option : --

Q.16 पाई-चार्ट का अध्ययन करें जो 2019 में कंपनी XYZ के A, B, C, D और E उत्पादों के बिक्री वितरण को दर्शाता है और नीचे दिए गए प्रश्न का उत्तर दें।

बेचे गए यूनिटों की कुल संख्या = 22500



कंपनी द्वारा बेचे गए B और D उत्पादों की यूनिटों की कुल संख्या ज्ञात करें।

- Ans
- ✓ 1. 7425
  - ✗ 2. 6800
  - ✗ 3. 7380
  - ✗ 4. 8050

Question ID : 65497814261

Chosen Option : 1

Q.17 कोई राशि 2 वर्ष में बढ़कर ₹11,616 और 3 वर्ष में बढ़कर ₹12,777.60 हो जाती है, जब ब्याज की गणना वार्षिक चक्रवृद्धि आधार पर होती है। राशि (₹ में) ज्ञात करें।

- Ans
- ✗ 1. 8,400
  - ✓ 2. 9,600
  - ✗ 3. 8,500
  - ✗ 4. 9,000

Question ID : 65497814253

Chosen Option : 2

Q.18 किसी राशि पर, 8% वार्षिक की दर से 5 वर्ष में प्राप्त साधारण ब्याज ₹3,960 है। उसी राशि पर 12% वार्षिक की दर से  $6\frac{2}{3}$  वर्ष में प्राप्त साधारण ब्याज ज्ञात करें।

- Ans
- ✗ 1. ₹8,000
  - ✗ 2. ₹5,280
  - ✓ 3. ₹7,920
  - ✗ 4. ₹6,600

Question ID : 65497814252

Chosen Option : 3

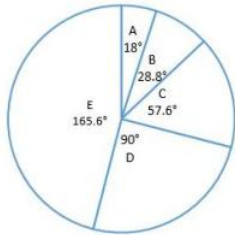
Q.19  $36 \div [24 + \{30 - (60 - 60 \div 4 \times 5 \text{ of } 2)\}]$  का मान ज्ञात करें।

- Ans
- 1.  $\frac{2}{3}$
  - 2.  $\frac{1}{2}$
  - 3.  $\frac{1}{3}$
  - 4.  $\frac{1}{4}$

Question ID : 65497814240  
Chosen Option : 4

Q.20 पाई-चार्ट का अध्ययन करें जो 2019 में कंपनी XYZ के A, B, C, D और E उत्पादों के बिक्री वितरण को दर्शाता है और नीचे दिए गए प्रश्न का उत्तर दें।

बेचे गए यूनिटों की कुल संख्या = 22500



यदि 2020 में बेचे गए उत्पादों की यूनिटों की कुल संख्या, 2019 में बेचे गए उत्पादों की यूनिटों की कुल संख्या से 20% अधिक है और सभी उत्पादों का बिक्री वितरण समान है, तो 2020 में बेचे गए E और D उत्पाद की यूनिटों की संख्या के बीच अंतर ज्ञात करें।

- Ans
- 1. 5647
  - 2. 5895
  - 3. 5745
  - 4. 5670

Question ID : 65497814263  
Chosen Option : 4

Q.21 दिए गए आंकड़ों की माध्यिका और परास का माध्य ज्ञात करें।

45, 40, 38, 60, 55, 36, 31, 52, 42, 44?

- Ans
- 1. 32
  - 2. 35
  - 3. 34
  - 4. 36

Question ID : 65497814245  
Chosen Option : 4



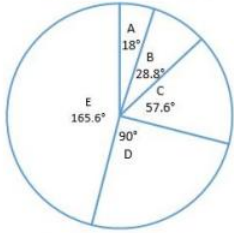
**Q.22** A solid metallic sphere of radius 8.4 cm is melted and recast into a cone of height 18.9 cm. What is the radius (in cm) of the base of the cone?

- Ans**
- 1. 10.5
  - 2. 9.8
  - 3. 11.2
  - 4. 10.8

Question ID : 65497814259  
Chosen Option : 3

**Q.23** पाई-चार्ट का अध्ययन करें जो 2019 में कंपनी XYZ के A, B, C, D और E उत्पादों के बिक्री वितरण को दर्शाता है और नीचे दिए गए प्रश्न का उत्तर दें।

बेचे गए यूनिटों की कुल संख्या = 22500



कंपनी द्वारा बेचे गए C उत्पाद की यूनिटों की संख्या, A और B उत्पाद की यूनिटों की कुल संख्या से x अधिक है। x का मान \_\_\_\_\_ के बीच होगा।

- Ans**
- 1. 680 और 690
  - 2. 690 और 700
  - 3. 660 और 670
  - 4. 670 और 680

Question ID : 65497814262  
Chosen Option : 4

**Q.24** कोई वस्तु ₹270 में बेचकर, किसी दुकानदार को 20% का लाभ होता है। यदि वह इस वस्तु को ₹210 में बेचता, तो उसका लाभ या हानि प्रतिशत ज्ञात करें।

- Ans**
- 1.  $6\frac{2}{3}\%$ , हानि
  - 2.  $6\frac{2}{3}\%$ , लाभ
  - 3.  $7\frac{1}{7}\%$ , लाभ
  - 4.  $7\frac{1}{7}\%$ , हानि

Question ID : 65497814247  
Chosen Option : 1

Q.25 दो अंकों वाली संख्याओं 41,  $x5$ ,  $5x$  और 44 का औसत 57 है।  $(x + 5)$  और  $(2x - 9)$  का औसत ज्ञात करें।

- Ans
- 1. 10
  - 2. 11
  - 3. 9
  - 4. 13

Question ID : 65497814243  
Chosen Option : --

Section : General Awareness

Q.1 निम्नलिखित क्रांतिकारियों में से किसे 'मास्टर दा' के नाम से जाना जाता था?

- Ans
- 1. राम प्रसाद बिस्मिल
  - 2. सूर्य सेन
  - 3. अशफाक-उल्ला खान
  - 4. बटुकेश्वर दत्त

Question ID : 65497815397  
Chosen Option : --

Q.2 Which of the following parallels of latitude represent the Tropic of Capricorn?

- Ans
- 1.  $66\frac{1}{2}^\circ$  in the Southern Hemisphere
  - 2.  $66\frac{1}{2}^\circ$  in the Northern Hemisphere
  - 3.  $23\frac{1}{2}^\circ$  in the Northern Hemisphere
  - 4.  $23\frac{1}{2}^\circ$  in the Southern Hemisphere

Question ID : 65497815395  
Chosen Option : 4

Q.3 2012 के लंदन ओलंपिक खेलों में निम्नलिखित में से किस खिलाड़ी ने रजत पदक जीता था?

- Ans
- 1. गगन नारंग
  - 2. एम.सी. मैरी कॉम
  - 3. साइना नेहवाल
  - 4. सुशील कुमार

Question ID : 65497815378  
Chosen Option : 4

Q.4 सूफी परंपराओं के संदर्भ में, 'समा' शब्द का अर्थ क्या है?

- Ans
- 1. आश्रम
  - 2. जादुई करतब
  - 3. पवित्र गीतों का पाठ
  - 4. शागिर्द

Question ID : 65497815398  
Chosen Option : --

Q.5 निम्नलिखित में से किस खगोलीय पिंड का 'शैरन (Charon)' नामक एक प्राकृतिक उपग्रह है?

- Ans
- 1. मंगल
  - 2. हौमिया
  - 3. शनि
  - 4. प्लूटो

Question ID : 65497815393  
Chosen Option : 3

Q.6 31 जुलाई 2020 तक की स्थिति के अनुसार, निम्नलिखित में से किस राज्य में राज्य विधानसभा में एक उच्च सदन था?

- Ans
- 1. पंजाब
  - 2. केरल
  - 3. असम
  - 4. कर्नाटक

Question ID : 65497815387  
Chosen Option : 4

Q.7 निम्नलिखित में से कौन-सा कारक 'मैड हैटर रोग' नामक रोग के लिए जिम्मेदार है?

- Ans
- 1. विटामिन-D की कमी
  - 2. पारा विषाक्तता
  - 3. लोहे की धूल सांस में लेना
  - 4. सिलिका की धूल सांस में लेना

Question ID : 65497815391  
Chosen Option : --

Q.8 निम्नलिखित में से कौन-सी नदी कर्नाटक में कुचिकल जलप्रपात बनाती है?

- Ans
- 1. वराही
  - 2. मांडवी
  - 3. उरमोडी
  - 4. काबिनी

Question ID : 65497815396  
Chosen Option : 4

Q.9 रिकेट्स नामक रोग में शरीर का निम्नलिखित में से कौन-सा अंग प्रत्यक्ष तौर पर प्रभावित होता है?

- Ans
- 1. हड्डियाँ
  - 2. आंखें
  - 3. जीभ
  - 4. तिल्ली

Question ID : 65497815390  
Chosen Option : 1

Q.10 अमेरिकी ऐतिहासिक संघ द्वारा 'मानद विदेशी सदस्य पुरस्कार 2019' से निम्नलिखित में से किसे सम्मानित किया गया है?

- Ans  1. रामचंद्र गुहा  
 2. नयनजोत लाहिड़ी  
 3. इरफान हबीब  
 4. भैरबी प्रसाद साहू

Question ID : 65497815381  
Chosen Option : --

Q.11 भारतीय अर्थव्यवस्था का निम्नलिखित में से कौन सा क्षेत्र 2019-20 के दौरान भारत में प्रत्यक्ष विदेशी निवेश का दूसरा सबसे बड़ा प्राप्तकर्ता था?

- Ans  1. निर्माण  
 2. कंप्यूटर सॉफ्टवेयर और हार्डवेयर  
 3. ऑटोमोबाइल  
 4. सेवा

Question ID : 65497815385  
Chosen Option : 4

Q.12 विकल्पों में वर्णित इकाइयों में से, अन्य की तुलना में कौन-सी इकाई सबसे बड़ी है?

- Ans  1. टेरा  
 2. हेक्टो  
 3. डेका  
 4. गीगा

Question ID : 65497815389  
Chosen Option : 1

Q.13 भारतीय संविधान के निम्नलिखित में से किस अनुच्छेद में यह वर्णित है कि संसद के पास संघ सूची में शामिल किसी भी मामले के संबंध में कानून बनाने की विशेष शक्तियाँ हैं?

- Ans  1. अनुच्छेद 246  
 2. अनुच्छेद 352  
 3. अनुच्छेद 362  
 4. अनुच्छेद 287

Question ID : 65497815388  
Chosen Option : 1

Q.14 उत्तराखंड की संस्कृति के संदर्भ में, 'काफुली' किसका नाम है?

- Ans  1. चित्रकला शैली  
 2. भोजन  
 3. लोक नृत्य  
 4. त्यौहार

Question ID : 65497815376  
Chosen Option : 3

Q.15 'माई जर्नी: ट्रांसफॉर्मिंग ड्रीम्स इन टू एक्शन' नामक पुस्तक निम्न में से किसकी आत्मकथा है?

- Ans
- 1. अटल बिहारी वाजपेयी
  - 2. ए.पी.जे. अब्दुल कलाम
  - 3. प्रतिभा पाटिल
  - 4. लालकृष्ण आडवाणी

Question ID : 65497815382  
Chosen Option : --

Q.16 वर्ष 2016 में साक्षी मलिक ने निम्नलिखित में से किस भार वर्ग में एक ओलंपिक पदक जीता था?

- Ans
- 1. 48 kg
  - 2. 63 kg
  - 3. 58 kg
  - 4. 53 kg

Question ID : 65497815379  
Chosen Option : --

Q.17 वर्ष 1949 में \_\_\_\_\_ का राष्ट्रीयकरण किया गया था।

- Ans
- 1. भारतीय रिजर्व बैंक
  - 2. इंपीरियल बैंक ऑफ इंडिया
  - 3. यूनियन बैंक ऑफ इंडिया
  - 4. सेंट्रल बैंक ऑफ इंडिया

Question ID : 65497816999  
Chosen Option : 2

Q.18 निम्नलिखित में से कौन सा राज्य/केंद्र शासित प्रदेश पारंपरिक रूप से एक दही-आधारित तरीदार व्यंजन से संबंध रखता है जिसे 'यखनी' के नाम से जाना जाता है?

- Ans
- 1. उत्तर प्रदेश
  - 2. मध्य प्रदेश
  - 3. जम्मू और कश्मीर
  - 4. झारखंड

Question ID : 65497815377  
Chosen Option : --

Q.19 भारत के निम्नलिखित क्षेत्रों में से किस क्षेत्र में सफेद बेलदार बगुले (व्हाइट-बेलीड हेरॉन) के प्राकृतिक निवास स्थान का व्यापक वितरण है?

- Ans
- 1. उत्तर-पूर्व
  - 2. उत्तर के मैदान
  - 3. पश्चिमी तट
  - 4. दक्कन का पठार

Question ID : 65497815392  
Chosen Option : --

Q.20 'तेरह ताली' नाम का लोक नृत्य निम्नलिखित में से किस राज्य के साथ पारंपरिक रूप से संबंधित है?

- Ans
- 1. असम
  - 2. राजस्थान
  - 3. महाराष्ट्र
  - 4. तेलंगाना

Question ID : 65497815375  
Chosen Option : 2

Q.21 गुप्त प्रशासन के संदर्भ में, 'विधि' शब्द \_\_\_\_\_ को संदर्भित करता है।

- Ans
- 1. राजा का निजी रक्षक
  - 2. प्रशासनिक इकाई
  - 3. गजवाहक इकाई
  - 4. सैनिक

Question ID : 65497815399  
Chosen Option : --

Q.22 भारत के निम्नलिखित में से किस राज्य में 'बत्री' नस्ल की भैंस मुख्य रूप से पाली जाती है?

- Ans
- 1. ओडिशा
  - 2. केरल
  - 3. पश्चिम बंगाल
  - 4. गुजरात

Question ID : 65497814778  
Chosen Option : --

Q.23 31 जुलाई 2020 तक की स्थिति के अनुसार, भारत के कॉर्पोरेट मामलों के कैबिनेट मंत्री कौन थे?

- Ans
- 1. गजेंद्र सिंह शेखावत
  - 2. प्रहलाद जोशी
  - 3. महेंद्र नाथ पांडे
  - 4. निर्मला सीतारमण

Question ID : 65497815386  
Chosen Option : 2

Q.24 मानविकी के लिए 2019 का इंफोसिस पुरस्कार निम्नलिखित में से किसे प्राप्त हुआ था?

- Ans
- 1. मनु वी. देवदेवन
  - 2. केसवन वेलुथत
  - 3. वाई. सुब्बारयालु
  - 4. शिरीन मूसवी

Question ID : 65497815380  
Chosen Option : --

Q.25 हर पाँच साल में की जाने वाली शेरों की जनगणना के अनुसार, जून 2020 में गुजरात के गिर वन क्षेत्र में एशियाई शेरों की संख्या बढ़कर \_\_\_\_\_ हो गई है।

Ans ✓ 1. 674

✗ 2. 547

✗ 3. 598

✗ 4. 705

Question ID : 65497815394

Chosen Option : 2

[www.exammix.com](http://www.exammix.com)

